



UNIVERSIDADE  
FEDERAL DE JUIZ DE FORA

**COMISSÃO PERMANENTE DE SELEÇÃO**

**COPESE**

**CONCURSO PÚBLICO TAE – 2014**

**CAMPUS DE JUIZ DE FORA - MG**



*Digiselo*

**PROVA TEÓRICA**

# AUXILIAR EM ADMINISTRAÇÃO

**LER COM ATENÇÃO AS INSTRUÇÕES PARA A REALIZAÇÃO DA PROVA** (Edital 13/2014 - Item 7.3.1)  
**Preenchimento do Cartão de Respostas – p. 3**  
**Instruções gerais – p. 4**

**NOME LEGÍVEL:** .....

**ASSINATURA:** .....

**INSCRIÇÃO:**

--	--	--	--	--

**ANOTE ABAIXO SUAS RESPOSTAS – Somente o fiscal poderá cortar a parte de baixo desta folha, para que você a leve consigo.**

UFJF – CONCURSO PÚBLICO TAE 2014 – CAMPUS DE JUIZ DE FORA – AUXILIAR EM ADMINISTRAÇÃO

01		02		03		04		05		06		07		08		09		10		11		12	
13		14		15		16		17		18		19		20		21		22		23		24	
25		26		27		28		29		30		31		32		33		34		35		36	
37		38		39		40		41		42		43		44		45		46		47		48	
49		50		51		52		53		54		55		56		57		58		59		60	





## ***INSTRUÇÕES PARA MARCAÇÃO DO CARTÃO DE RESPOSTAS:***

*1 - Na correção dos cartões de respostas, para efeito de pontuação, será **desconsiderada**:*

- questão que não apresentar nenhuma opção assinalada;*
- questão que contiver mais de uma opção assinalada, sejam estas marcações acidentais ou não, independentemente da dimensão, ocasionadas por borrões, corretivos, emendas, manchas, pontos, sombreados de lápis ou caneta, traços ou quaisquer outros tipos de rasuras.*

*2 - Para que o candidato não se enquadre em nenhuma dessas situações, tendo alguma questão anulada devido a múltiplas marcações, é imprescindível que ele tenha o máximo de atenção, cuidado e capricho ao transcrever as respostas das questões do caderno de provas para o cartão de respostas.*

*3 - Em hipótese alguma, será fornecido outro cartão de respostas, portanto, é preciso que o candidato fique atento e preencha, corretamente, **apenas uma** das cinco alternativas em cada questão, utilizando **caneta esferográfica azul ou preta de corpo transparente**, conforme a figura abaixo:*





## ***INSTRUÇÕES PARA A REALIZAÇÃO DA PROVA***

(EDITAL 13/2014 - 7.3.1. As disposições e instruções contidas no(s) Cadernos de Prova constituirão normas complementares ao presente edital.)

- ***Será excluído do concurso o candidato que em sala de prova portar celulares, armas e aparelhos eletrônicos.***
- ***O candidato não pode usar boné, capacete, chapéu, chaveiro de qualquer tipo, óculos escuros, relógio e similares.***
- ***Quando solicitado pelo Fiscal, o candidato deve assinar a Ata de Abertura do Lacre.***
- ***Junto ao candidato, só devem permanecer os objetos de identificação e os materiais para execução da prova. Todo e qualquer outro material, exceto alimentos, água em garrafa transparente e medicamentos, têm de ser colocados no saco plástico disponível, amarrado e colocado embaixo da cadeira.***
- ***O candidato que possuir cabelos compridos deve mantê-los presos, deixando as orelhas descobertas.***
- ***O candidato deve conferir se sua prova tem 15 questões de Língua Portuguesa, 10 de Raciocínio Lógico-Quantitativo, 5 de Legislação e 30 de Conhecimentos Específicos do cargo, sendo cada questão constituída de 5 alternativas (a, b, c, d, e) e numeradas de 01 a 60. Caso haja algum problema, solicitar a substituição de seu caderno ou folha.***
- ***O candidato deve comunicar sempre aos fiscais qualquer irregularidade observada durante a realização da prova. Não sendo tomadas as devidas providências a respeito de sua reclamação, solicitar a presença do Coordenador do Setor ou comunicar-se com ele, na secretaria, ao final da prova.***
- ***O candidato não pode retirar nenhuma folha deste caderno.***
- ***A duração da prova, considerando a marcação do cartão de respostas, é de 4 horas. O candidato só poderá sair decorridos 1h e 30min.***
- ***O candidato deve assinar a lista de presença e o cartão de respostas com a assinatura idêntica à da sua identidade.***
- ***O candidato, ao receber o cartão de respostas, deve ler, atentamente, as instruções contidas na página 3 deste caderno.***
- ***Os três últimos candidatos deverão permanecer até o final da prova para assinar a Ata de Encerramento.***



## CONHECIMENTOS GERAIS

### LÍNGUA PORTUGUESA

➤ Leia com atenção o seguinte texto, que motiva as questões de 01 a 13 desta prova.

Tudo favorece a pirataria

1. Os brasileiros sabem que pirataria é crime e que a compra de produtos pirateados, falsificados e contrabandeados causa desemprego, lesa direitos, diminui a receita de impostos e alimenta o crime organizado. Mas, apesar disso, o mercado desses produtos prospera e os compradores são cerca de 79 milhões de pessoas, segundo pesquisa da Federação do Comércio do Estado do Rio de Janeiro (Fecomércio-RJ) em parceria com o instituto Ipsos. Os técnicos poderão discutir se a estimativa, baseada em respostas colhidas em mil domicílios situados em 70 cidades de 9 regiões metropolitanas, é confiável. Mas isso não desqualifica as principais conclusões, alarmantes, apesar de nada surpreendentes, e reforça a convicção de que há muito que fazer, ainda, para atenuar o problema.
2. O primeiro dado é uma obviedade: 93% dos consumidores de produtos do comércio ilegal apontam a diferença de preço como principal motivação da compra. Parte da diferença de preço é explicável pela pesada tributação dos bens de consumo. Os produtos mais comprados – CDs, apontados por 86% dos entrevistados, e DVDs, indicados por 35% – são muito caros para grande parte dos brasileiros.
3. Os pobres e os remediados podem comprar toca-discos e até aparelhos de DVD a prazo, nas lojas populares, pagando grande número de prestações. Os juros são altos, mas, apesar disso, as parcelas podem caber em seu apertado orçamento. O mais difícil é comprar os discos.
4. Outros produtos de consumo também atraentes, como relógios, óculos, tênis e brinquedos, são igualmente muito mais acessíveis nas bancas de produtos falsificados e contrabandeados. Como convencer as pessoas de que devem renunciar ao consumo desses bens, quando todas são bombardeadas continuamente por estímulos publicitários? Mas os consumidores não são apenas os pobres ou remediados. Quando se perguntou que produtos piratas não seriam comprados, 40% indicaram equipamentos eletrônicos, 37%, programas de computador e 30%, acessórios para veículos. A resposta “cívica” seria “nenhum”.
5. As manifestações dos entrevistados, nessa parte da pesquisa, são tão racionais, do ponto de vista do consumidor, quanto a preferência pelo preço mais baixo. Baixa qualidade foi o motivo apontado por 42% dos consumidores para a rejeição daqueles produtos. Para 14%, o problema era a falta de garantia. A intenção de evitar prejuízos para o comércio formal foi mencionada por apenas 5% dos entrevistados.
6. No entanto, as entrevistas mostraram que os consumidores têm consciência dos males causados pelo comércio ilegal. Prejuízos para o artista foram mencionados por 83%. Sonegação de impostos foi citada por um número igual. Vantagens para o crime organizado foram apontadas por 70%. Tudo isso compõe um exemplo notável de como a vantagem pessoal pode pesar mais, nas decisões de cada um, do que a percepção dos males sociais acarretados pelo crime.
7. Se os dados da pesquisa estiverem corretos, não se deve esperar muito das campanhas de conscientização. Será preciso dar muito mais peso ao trabalho de prevenção e de repressão da pirataria, da falsificação e do contrabando. [...]

*O Estado de S. Paulo, São Paulo, p. A3, 16 out. 2006. Adaptado.*

1. O principal propósito comunicativo do texto é:

- a) registrar o descaso dos consumidores com os produtos pirateados e contrabandeados.
- b) avaliar o resultado de uma pesquisa sobre produtos ilegais vendidos no Brasil.
- c) enumerar os principais produtos do comércio ilegal de produtos eletrônicos.
- d) mostrar que os produtos piratas mais comprados são os equipamentos eletrônicos, os programas de computador e os acessórios para veículos.
- e) mostrar que o governo brasileiro está prendendo os vendedores de produtos contrabandeados.



2. O principal fator apontado pela maioria dos consumidores no que se refere à motivação da compra de produtos contrabandeados e falsificados é:
- a) a boa qualidade dos produtos.
  - b) o baixo preço dos produtos.
  - c) a facilidade para adquirir as mercadorias.
  - d) a durabilidade dos produtos.
  - e) o gosto pela música.
3. O texto defende que, para um combate mais efetivo ao comércio ilegal, será necessário investir:
- a) nas campanhas de conscientização.
  - b) na organização de cartazes com palavras de ordem nas ruas.
  - c) nas propagandas na mídia televisiva.
  - d) nos trabalhos de prevenção e repressão.
  - e) na aquisição de produtos similares fabricados no Brasil.
4. A palavra “lesa”, na seguinte expressão “lesa direitos” (§ 1), pode ser substituída, sem prejuízo de sentido, por:
- a) ajuda.
  - b) notícia.
  - c) aumenta.
  - d) desrespeita.
  - e) espalha.
5. Atente para as sequências grifadas nos trechos:

“Se os dados da pesquisa estiverem corretos, não se deve esperar muito das campanhas de conscientização”. (§ 7)

“Quando se perguntou que produtos piratas não seriam comprados, 40% indicaram equipamentos eletrônicos...” (§ 4)

“Tudo isso compõe um exemplo notável de como a vantagem pessoal pode pesar mais (...) do que a percepção dos males sociais acarretados pelo crime.” (§ 6)

“... a compra de produtos pirateados (...) causa desemprego, lesa direitos, diminui a receita de impostos e alimenta o crime organizado.” (§ 1)

Semanticamente, **as sequências grifadas**, expressam, **na ordem**:

- a) condição, tempo, proporção e alternância.
  - b) causa, proporção, comparação e oposição.
  - c) consequência, tempo, comparação e alternância.
  - d) condição, tempo, comparação e explicação.
  - e) condição, tempo, comparação e adição.
6. Aponte a alternativa em que o elemento em destaque **NÃO** está corretamente identificado.
- a) “Parte da diferença de preço é explicável...” (§ 2) → sufixo
  - b) “... também atraentes, como relógios, óculos...” (§ 4) → radical
  - c) “Mas os consumidores não são apenas...” (§ 4) → sufixo
  - d) “... 40% indicaram equipamentos eletrônicos...” (§ 4) → prefixo
  - e) “... causa desemprego, lesa direitos...” (§ 1) → prefixo



7. “Se os dados da pesquisa estiverem corretos, não se deve esperar muito das campanhas de conscientização.” (§ 7)

Aponte a alternativa que identifica, na ordem, os tempos das formas verbais em destaque.

- a) futuro do subjuntivo e presente do indicativo
- b) futuro do subjuntivo e imperativo negativo
- c) pretérito imperfeito do subjuntivo e presente do indicativo
- d) futuro do subjuntivo e presente do subjuntivo
- e) pretérito mais-que-perfeito do indicativo e imperativo negativo

8. Marque a alternativa em que **a vírgula foi usada para marcar a elipse do verbo**:

- a) “Mas, apesar disso, o mercado desses produtos prospera e os compradores são cerca de 79 milhões de pessoas...” (§ 1)
- b) “Os produtos mais comprados – CDs, apontados por 86% dos entrevistados, e DVDs, indicados por 35% – são muito caros para grande parte dos brasileiros”. (§ 2)
- c) “(...) 40% indicaram equipamentos eletrônicos, 37%, programas de computador e 30%, acessórios para veículos”. (§ 4)
- d) “Para 14%, o problema era a falta de garantia. A intenção de evitar prejuízos para o comércio formal foi mencionada por apenas 5% dos entrevistados”. (§ 5)
- e) “(...) e que a compra de produtos pirateados, falsificados e contrabandeados causa desemprego, lesa direitos, diminui a receita de impostos e alimenta o crime organizado”. (§ 1)

9. Leia o seguinte trecho: “Como convencer as pessoas de que devem renunciar ao consumo desses bens, quando todas são bombardeadas continuamente por estímulos publicitários?” (§ 4)

Assinale a alternativa em que o verbo, assim como o que está assinalado no trecho anterior, rege dois objetos.

- a) Em Nova Jerusalém, assistimos à representação da Paixão de Cristo.
- b) O uso dos meios de comunicação implica uma enorme responsabilidade.
- c) As diversões de que mais gosto são cinema e televisão.
- d) Os maus políticos se esquecem de suas promessas.
- e) Fernanda prefere uma crítica sincera a elogios exagerados.

10. Leia o trecho:

“... 93% dos consumidores de produtos do comércio ilegal apontam a diferença de preço como principal motivação da compra.” (§ 2)

Inspirados nesse trecho, poderíamos, obedecendo à regência recomendada pela norma culta, escrever algo assim:

- a) 93% dos consumidores de produtos do comércio ilegal aspiram preços baixos.
- b) 93% dos consumidores de produtos do comércio ilegal aspiram aqueles preços mais baixos.
- c) 93% dos consumidores de produtos do comércio ilegal aspiram àquelas boas condições de pagamento.
- d) 93% dos consumidores de produtos do comércio ilegal aspiram a pechincha da pirataria.
- e) 93% dos consumidores de produtos do comércio ilegal aspiram os preços baixos.



11. Escreve o autor que “Os pobres e os remediados podem comprar toca-discos...”. (§ 3) Haveria, entretanto, **ERRO** de concordância, se escrevesse algo assim:

- a) Já faz alguns anos que os pobres e os remediados podem comprar toca-discos.
- b) Já faz alguns anos que podem os pobres e os remediados comprar toca-discos.
- c) Já está fazendo alguns anos que os pobres e os remediados podem comprar toca-discos.
- d) Não resta dúvidas de que pode o pobre e o remediado comprar toca-discos.
- e) Não havia dúvidas de que o pobre e o remediado podem comprar toca-discos.

12. O texto que introduz esta prova começa assim: “Os brasileiros sabem que pirataria é crime...”. (§ 1) Caso o autor optasse por “Os brasileiros sabem que pirataria é fogueira em que se queimam impostos e empregos...”, ele estaria, com a expressão grifada, valendo-se de uma:

- a) aliteração.
- b) elipse.
- c) metáfora.
- d) antítese.
- e) metonímia.

13. Atento à acentuação gráfica vigente, o autor escreveu: “Prejuízos para o artista foram mencionados por 83%.” (§ 6). Cometeria, entretanto, **ERRO** caso escrevesse algo assim:

- a) O juíz condenou todos aqueles que vendiam produtos pirateados.
- b) Somente ontem o magistrado pôde julgar os crimes de contrabando.
- c) O procurador deverá arguir todos os suspeitos de pirataria.
- d) Deve haver mesmo quem só comercie produtos pirateados.
- e) No baú do joalheiro, foram encontrados relógios contrabandeados.

➤ **Leia com atenção o seguinte texto, que motiva as questões de 14 e 15 desta prova.**



(O Estado de S. Paulo, 29/7/2006.)

14. O efeito de humor produzido pela tirinha resulta do (da):

- a) jogo de palavras entre vocábulos de tonicidades distintas.
- b) desobediência ao sistema ortográfico vigente.
- c) ambiguidade provocada pelo vocábulo areia.
- d) menção à existência de areia em regiões tão diferentes.
- e) emprego inadequado da forma verbal têm.





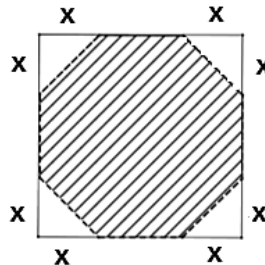
15. Assim como “deserto” e “coisas”, grafam-se **CORRETAMENTE** com “s” todas as palavras da seguinte alternativa:

- a) embriaguês – pretensão – compreensivo – limpidês
- b) cortesia – cortesmente – espontâneo – esplêndido
- c) norueguês – através – quisesse – desmaselo
- d) paralisar – paralisação – civilisar – civilização
- e) corisa – algararra – lisonjeado – náusea

## MATEMÁTICA

16. Cortando as pontas de uma placa quadrada de madeira de  $1\text{m}^2$  de área, um marceneiro pretende construir um tampo de mesa no formato de um octógono regular (Figura). A distância **X** onde esse profissional deve realizar seus cortes, a partir das extremidades da placa, é de aproximadamente: (Atenção, caso necessário utilize  $\sqrt{2} \cong 1,4$ )

- a) 10 cm.
- b) 20 cm.
- c) 30 cm.
- d) 40 cm.
- e) 50 cm.



17. Uma rampa de inclinação constante tem 4 metros de altura na sua parte mais alta. Uma pessoa, tendo começado a subi-la, nota que, após caminhar 13 metros sobre a rampa, está a 1,5 metros de altura em relação ao solo. A distância, em metros, que essa pessoa ainda deve caminhar para atingir o ponto mais alto da rampa é:

- a) uma dízima não periódica menor do que 30.
- b) um número natural múltiplo de 5.
- c) um número irracional.
- d) o dobro da distância que ela já percorreu.
- e) uma dízima periódica menor do que 30.



18. Para fazer uma viagem segura a lugares não conhecidos, é comum as pessoas buscarem na Internet informações sobre o percurso e a distância. Procedendo dessa maneira, um motorista da cidade de Conselheiro Lafaiete-MG, que planeja fazer a viagem de carro até a cidade de Brumadinho-MG, onde está localizado o maior centro de arte ao ar livre no Instituto de Inhotim, obteve na Internet as informações constantes do mapa a seguir:




Disponível em: <<https://maps.google.com.br/>>. Acesso em: 12 ago. 2013.

O comprimento da estrada que liga as cidades de Conselheiro Lafaiete-MG (ponto A) a Brumadinho-MG (ponto B) é de 6cm. A escala do mapa é 1:1.800.000. Desse modo, a distância real, dada em quilômetros, entre as cidades de Conselheiro Lafaiete-MG e Brumadinho-MG, é de, aproximadamente:

- a) 10,8 quilômetros.
  - b) 18 quilômetros.
  - c) 108 quilômetros.
  - d) 18.000 quilômetros.
  - e) 10.800 quilômetros.
19. Os dados informados no gráfico abaixo referem-se à quantidade média, em toneladas, dos principais componentes do lixo seco que foram reciclados anualmente no Brasil, nos últimos anos. Esse total representa apenas, aproximadamente, 25% do lixo seco produzido no Brasil, no período analisado. Então, nesse mesmo período, a quantidade total de lixo seco produzido anualmente e a quantidade que deixou de ser reciclada, em toneladas, é de, respectivamente:

- a) 28.496 mil e 21.372 mil.
- b) 21.372 mil e 28.456 mil.
- c) 30.147 mil e 19.569 mil.
- d) 7.124 mil e 28.456 mil.
- e) 7.124 mil e 21.372 mil.



Disponível em: <[Revistaepoca.globo.com](http://Revistaepoca.globo.com)>. Acesso em: jan. 2012.

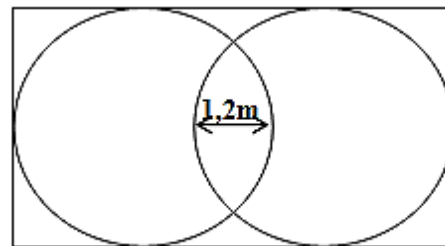


20. A probabilidade de escolhermos, ao acaso, um dos divisores positivos do 30 e que ele seja um número ímpar é de:

- a)  $\frac{1}{6}$ .
- b)  $\frac{3}{8}$ .
- c)  $\frac{4}{15}$ .
- d)  $\frac{1}{2}$ .
- e)  $\frac{1}{10}$ .

21. Um fazendeiro pretende cercar uma área de forma retangular, a fim de construir dois chiqueiros, visto que precisa separar os porcos das porcas. Esses chiqueiros terão, cada um, a forma de um círculo com 5 metros de diâmetro, e serão tangentes cada um a três lados da cerca. Porém, com o objetivo de economia, o fazendeiro quer deixar uma área comum entre os chiqueiros com 1,2 metros de largura, onde ficará o cocho de alimentação dos suínos (Veja a figura). Sendo assim, o perímetro do cercado retangular que o fazendeiro pretende construir será de:

- a) 30m.
- b) 37,6m.
- c) 27,6m.
- d) 2.670cm.
- e) 31m.

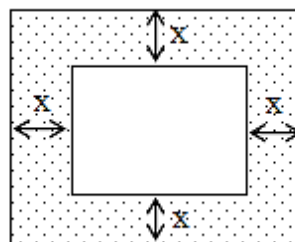


22. Os raios do sol incidem sobre um prédio projetando uma sombra de 40m. No mesmo instante, o sol projeta a sombra de 8m de um poste que possui 3m de altura. Considerando essas informações, a altura do prédio, em metros, é:

- a) 18.
- b) 15.
- c) 5.
- d) 8.
- e) 10.

23. Um decorador pretende colocar uma tela de 20cm por 30cm em uma moldura retangular, cujas distâncias “x” até as laterais devem ser as mesmas. Sabendo que a área total da região retangular que contém a moldura é de 808 cm<sup>2</sup>, a medida **X** será:

- a) um número irracional.
- b) um divisor natural de 12.
- c) 5 cm.
- d) uma dízima periódica.
- e) 3,5 cm.





24. Dentre os números 1, 2, 3, 4, 5 e 6, estão as soluções da equação  $5x^2 - 35x = -50$ . Esses dois números são:
- a) 1 e 2.
  - b) 2 e 3.
  - c) 2 e 5.
  - d) 3 e 4.
  - e) 3 e 5.
25. Em algumas cidades brasileiras, já existe a proibição do fornecimento de sacolas plásticas em supermercados e no comércio em geral. De acordo com a Associação Mineira de Supermercados, antes da lei, 450 mil unidades eram distribuídas todos os dias e, desde o início da proibição, a queda no consumo foi cerca de 97%. Segundo a Associação Mineira de Supermercados, cada comerciante gastava uma média de R\$ 2.500,00 mensais com sacolas descartáveis antes da proibição. Então, o gasto com sacolas descartáveis por 30 desses comerciantes, ao longo de um ano, após a redução indicada pela Associação, é:
- a) R\$ 75,00.
  - b) R\$ 900,00.
  - c) R\$ 2.425,00.
  - d) R\$ 29.100,00.
  - e) R\$ 27.000,00.

## LEGISLAÇÃO

26. Segundo a Lei nº. 8.112/90, a investidura do servidor em cargo de atribuições e responsabilidades compatíveis com a limitação a qual tenha sofrido em sua capacidade física ou mental, verificada em inspeção médica, configura:
- a) recondução.
  - b) reintegração.
  - c) reversão
  - d) readaptação.
  - e) redirecionamento.
27. Segundo a Constituição Federal, é correto afirmar, **EXCETO**:
- a) Os vencimentos dos cargos do Poder Legislativo e do Poder Judiciário não poderão ser superiores aos pagos pelo Poder Executivo.
  - b) É vedada a vinculação ou equiparação de quaisquer espécies remuneratórias para o efeito de remuneração de pessoal do serviço público.
  - c) Os acréscimos pecuniários percebidos por servidor público serão computados e acumulados para fins de concessão de acréscimos ulteriores.
  - d) Havendo compatibilidade de horários, é permitida a acumulação remunerada de dois cargos públicos de professor.
  - e) Havendo compatibilidade de horários, é permitida a acumulação remunerada de um cargo público de professor com outro técnico ou científico.



28. Segundo o Código de Ética Profissional do Servidor Público Civil do Poder Executivo Federal, são deveres do servidor público, **EXCETO**:

- a) desempenhar, a tempo, as atribuições do cargo, função ou emprego público de que seja titular.
- b) exercer suas atribuições com rapidez, perfeição e rendimento, pondo fim ou procurando, prioritariamente, resolver situações procrastinatórias, principalmente diante de filas ou de qualquer outra espécie de atraso na prestação dos serviços pelo setor em que exerça suas atribuições, com o fim de evitar dano moral ao usuário.
- c) ser probo, reto, leal e justo, demonstrando toda a integridade do seu caráter, escolhendo sempre, quando estiver diante de duas opções, a melhor e a mais vantajosa para o órgão em que executa suas atividades.
- d) jamais retardar qualquer prestação de contas, condição essencial da gestão dos bens, direitos e serviços da coletividade a seu cargo.
- e) tratar, cuidadosamente, os usuários dos serviços, aperfeiçoando o processo de comunicação e contato com o público.

29. Segundo a Lei nº. 9.784/99, são direitos dos administrados perante a Administração, **EXCETO**:

- a) ser tratado com respeito pelas autoridades e servidores, que deverão facilitar o exercício de seus direitos e o cumprimento de suas obrigações.
- b) ter seus pleitos decididos pela Administração Pública em até quinze dias úteis.
- c) ter ciência da tramitação dos processos administrativos em que tenha a condição de interessado, ter vista dos autos, obter cópias de documentos neles contidos e conhecer as decisões proferidas.
- d) formular alegações e apresentar documentos antes da decisão, os quais serão objeto de consideração pelo órgão competente.
- e) fazer-se assistir, facultativamente, por advogado, salvo quando obrigatória a representação, por força de lei.

30. O funcionário público que patrocina, direta ou indiretamente, interesse privado perante a administração pública, valendo-se da qualidade de funcionário, comete o crime de:

- a) condescendência criminosa.
- b) patrocínio infiel.
- c) corrupção passiva.
- d) prevaricação.
- e) advocacia administrativa.



## CONHECIMENTOS ESPECÍFICOS

### LÍNGUA PORTUGUESA E INTERPRETAÇÃO DE TEXTOS

- Esta prova consta de nove textos. Leia-os com bastante atenção e volte eles sempre que julgar necessário.

#### Texto I



Fonte: Disponível em: <<http://www.turvoativo.com.br>>. Acesso em: 20 ago. 2013.

31. O efeito de humor presente na charge deve-se:

- a) ao desconhecimento do aluno sobre a reforma ortográfica.
- b) à contextualização social que o aluno faz da pergunta apresentada.
- c) ao evidente erro de ortografia cometido pelo professor.
- d) à ingenuidade do aluno em sua resposta ao professor.
- e) à inadequação na pergunta feita pelo professor.

#### Texto II

##### 'Equívocos' evitáveis

1. O papa se foi. Com ele, as confusões entre as formas de tratamento "Sua Santidade" e "Vossa Santidade". Foi um tal de ouvir/ler jornalistas, comentaristas, convidados de programas jornalísticos etc. se referirem ao papa das duas maneiras que os pobres ouvintes/leitores devem ter ficado um tanto desorientados, sobretudo aqueles que porventura desconheçam o emprego culto dessas formas de tratamento.

2. Antes de entrar no tema, lembro que, quando se opta pela norma culta ou quando se impõe o uso desse registro (caso do pronunciamento de altas autoridades em cerimônias oficiais), convém conhecer o território em que se está, do contrário...

3. No domingo à noite, o vice-presidente da República, Michel Temer, saiu-se bem ao se dirigir a Sua Santidade. Opa! Pronto! Acabo de dar um exemplo do uso culto de formas de tratamento iniciadas por "sua" ("Sua Santidade", "Sua Excelência", "Sua Senhoria" etc.). Quando se fala do ser ao qual se refere o pronome de tratamento, emprega-se a forma iniciada por "sua". Foi o que eu fiz no trecho "...ao se dirigir a Sua Santidade", no qual empreguei "Sua Santidade" para referir-me ao papa.



4. Em sua fala, Temer empregou "Vossa Santidade" porque falava ao papa (e não do papa), ou seja, dirigia a palavra diretamente a ele. Dia desses, nas matérias sobre o "bebê real" (haja estômago para ouvir tanta bobagem sobre um assunto tão desimportante!), notou-se a mesma confusão. O pimpolho foi citado (corretamente) por alguns como "Sua Alteza", e por outros como "Vossa Alteza". Que eu saiba, ninguém conseguiu entrevistar o rapazote.

5. Muita gente supõe que o "vossa" de "Vossa Santidade" e afins impõe o possessivo "vossa", que é outra história. Na linguagem formal, o possessivo "vossa" se associa ao pronome reto "vós" ("...bendita sois vós entre as mulheres, bendito é o fruto do vosso ventre, Jesus"...).

6. Com os pronomes de tratamento, que são da terceira pessoa gramatical, empregam-se os possessivos da terceira pessoa, ou seja, "seu(s)" e "sua(s)": "Vossa Santidade sabe que SUA visita ao Brasil..." (e não "vossa visita ao Brasil..."). Os pronomes oblíquos também devem ser da terceira pessoa, ou seja, devem ser "o(s)", "a/s" e "lhe(s)": "Vossa Santidade sabe que SUAS palavras comoveram o Brasil. Os jovens agora O veem como alguém realmente capaz de transformar a Igreja e esperam que nada LHE tire a coragem de enfrentar as barreiras que...".

7. É claro que a frase que encerra o parágrafo anterior só poderia ser dita por alguém que dirigisse a palavra diretamente ao papa; se alguém falasse do papa, deveria trocar "Vossa Santidade" por "Sua Santidade".

8. Outro equívoco evitável consiste no emprego do acento indicador de crase antes de "Sua (ou 'Vossa') Santidade". Basta um pouco de atenção para que se perceba que não se usa artigo definido antes desses pronomes. Ninguém dirá algo como "Os fiéis creem na Sua Santidade" ou "Os jovens esperaram pela Sua Santidade" ou ainda "Os brasileiros gostaram muito da Sua Santidade". No lugar de "na", "pela" e "da", que resultam da fusão de preposição e artigo, usam-se apenas as preposições "em", "por" e "de", respectivamente: "...creem em Sua Santidade", "...esperaram por Sua Santidade", "...gostaram muito de Sua Santidade".

9. Como se sabe, se não existe artigo, nada de acento indicador de crase: "O vice-presidente dirigiu a palavra a (e não 'à') Sua Santidade"; "Peço a (e não 'à') Vossa Senhoria que reconsidere sua decisão".

10. Em tempo: quem já passou por um concurso público sabe que o que discuti nesta coluna é assunto frequente nas provas de português desse tipo de seleção. É isso.

CIPRO NETO, Pasquale. *'Equívocos' evitáveis*. Disponível em: <[www.folha.com](http://www.folha.com)>. Acesso em: 20 ago. 2013.

32. Considerando as lições do autor e atentando para as informações entre parênteses, aponte a alternativa em que o texto proposto **NÃO** estaria adequado.

- a) Temos a satisfação de convidar Vossa Excelência e seus secretários para a aula inaugural do curso de mestrado em psicologia, promovido por esta universidade. (texto de ofício de reitor para governador)
- b) Tivemos a satisfação de convidar Sua Excelência, o senhor governador, e seus secretários para a aula inaugural do curso de mestrado em psicologia, promovido por esta universidade. (texto de ofício de reitor a um de seus pró-reitores)
- c) Saiba Vossa Magnificência que minhas palavras exteriorizam a gratidão dos formandos ao seu empenho para minimizar todos os problemas por que passamos durante a trajetória acadêmica. (texto de discurso de orador de turma, na presença de reitor)
- d) Em relação à última encomenda de Vossa Senhoria, cumpre-nos informar-vos que, antes do atendimento, precisamos de completar os dados cadastrais dessa empresa. (texto de carta comercial)
- e) Vossa Excelência talvez não dimensione a importância para nós de recebê-lo como membro da Comissão da Educação da Câmara dos Deputados. (texto de saudação de deputado para deputado)



### Texto III

#### A vírgula não foi feita para humilhar ninguém

1. Era Borjalino Ferraz e perdeu o primeiro emprego na Prefeitura de Macajuba por coisas de pontuação. Certa vez, o diretor do Serviço de Obras chamou o amanuense para uma conversa de fim de expediente. E aconselhativo:

2. — Seu Borjalino, tenha cuidado com as vírgulas. Desse jeito, o amigo acaba com o estoque e a comarca não tem dinheiro para comprar vírgulas novas.

3. Fez outros ofícios, semeou vírgulas empenadas por todos os lados e foi despedido. Como era sujeito de brio, tomou aulas de gramática, de modo a colocar as vírgulas em seus devidos lugares. Estudou e progrediu. Mais do que isso, saiu das páginas da gramática escrevendo bonito, com rendilhados no estilo. Cravava vírgulas e crases como ourives crava as pedras. O que fazia o coletor federal Zozó Laranjeira apurar os óculos e dizer com orgulho:

4. — Não tem como o Borjalino para uma vírgula e mesmo para uma crase. Nem o presidente da República!

5. E assim, um porco-espinho de vírgulas e crases, Borjalino foi trabalhar, como escriturário, na Divisão de Rendas de São Miguel do Cupim. Ficou logo encarregado dos ofícios, não só por ter prática de escrever como pela fama de virgulista. Mas, com dois meses de caneta, era despedido. O encarregado das Rendas, funcionário sem vírgulas e sem crases, foi franco:

6. — Seu Borjalino, sua competência é demais para repartição tão miúda. O amigo é um homem de instrução. É um dicionário. Quando o contribuinte recebe um ofício de sua lavra cuida que é ordem de prisão. O coronel Balduino dos Santos quase teve um sopro no coração ao ler uma peça saída de sua caneta. Pensou que fosse ofensa, pelo que passou um telegrama desaforado ao Senhor Governador do Estado. Veja bem! O Senhor Governador.

7. E por colocar bem as vírgulas e citar Nabucodonosor em ofício de pequena corretagem, o esplêndido Borjalino foi colocado à disposição do olho da rua. Com uma citação no *Diário Oficial* e duas gramáticas debaixo do braço.

CARVALHO, José Cândido de. *José Cândido de Carvalho*. Sel., notas, est. biogr. hist. e crít. Maria Aparecida Bacega. São Paulo: Abril Educação, 1983. p. 88-9. (Literatura comentada).





33. Para o sucesso no seu ofício de escrevente, faltou a Borjalino Ferraz aplicar a sabedoria estampada no seguinte provérbio:

- a) Vão-se os anéis, ficam os dedos.
- b) Dia de muito, véspera de nada.
- c) Deus ajuda a quem cedo madruga.
- d) Devagar se vai ao longe.
- e) Nem tanto ao mar nem tanto à terra.

34. Entendida *vírgula* como *sabedoria, conhecimento*, aponte o personagem que contradiz a verdade pretendida pelo título da narrativa:

- a) Borjalino Ferraz
- b) diretor dos Serviços de Obras
- c) Balduino dos Santos
- d) Zozó Laranjeira
- e) encarregado das Rendas

35. Aponte a alternativa que, isoladamente, **NÃO** revela uma ironia.

- a) “... tomou aulas de gramática, de modo a colocar as vírgulas em seus devidos lugares.” (§ 3)
- b) “Desse jeito, o amigo acaba com o estoque e a comarca não tem dinheiro para comprar vírgulas novas.” (§ 2)
- c) “Fez outros ofícios, semeou vírgulas empenadas por todos os lados e foi despedido.” (§ 3)
- d) “E assim, um porco-espinho de vírgulas e crases, Borjalino foi trabalhar, como escriturário...” (§ 5)
- e) “E por colocar bem as vírgulas (...) o esplêndido Borjalino foi colocado à disposição do olho da rua.” (§ 7)

36. No trecho “Mas, com dois meses de caneta, era despedido” (§ 5), o narrador – com a expressão grifada – vale-se do seguinte recurso de estilo:

- a) metáfora.
- b) metonímia.
- c) antítese.
- d) personificação.
- e) hipérbole.



## Texto IV

### A balada da neve

1. Batem leve, levemente,  
Como quem chama por mim...  
Será chuva? Será gente?  
Gente não é certamente  
E a chuva não bate assim...

2. É talvez a ventania;  
Mas há pouco, há pouquinho,  
Nem uma agulha bulia  
Na quieta melancolia  
Dos pinheiros do caminho...

3. Quem bate assim levemente,  
com tão estranha leveza  
que mal se ouve, mal se sente?  
Não é chuva, nem é gente,  
Nem é vento com certeza.

4. Fui ver. A neve caía  
Do azul cinzento do céu  
branca e leve, branca e fria...  
– Há quanto tempo a não via!  
E que saudade, meu Deus!

5. Olho-a através da vidraça.  
Pôs tudo da cor do linho.  
Passa gente e, quando passa,  
Os passos imprime e traça  
Na brancura do caminho...

GIL, Augusto. A balada da neve. In: REBELO, Marques. *Antologia escolar portuguesa*. Rio de Janeiro: FENAME, 1970. p. 101-102.

6. Fico olhando esses sinais  
Da pobre gente que avança,  
E noto, por entre os mais,  
Os traços miniaturais  
Duns pezitos de criança...

7. E descalcinhos, doridos...  
A neve deixa inda vê-los  
Primeiro bem definidos,  
Depois, em sulcos compridos,  
Porque não podia erguê-los!...

8. Que quem já é pecador  
Sofra tormentos, enfim!  
Mas as crianças, Senhor,  
Por que lhes dais tanta dor?!  
Por que padecem assim?!...

9. E uma infinita tristeza,  
Uma funda turbacão  
Entra em mim, fica em mim presa.  
Cai neve na Natureza...  
– E cai no meu coração.

37. O verso “que mal se ouve, mal se sente?” (terceira estrofe), expressa, semanticamente:

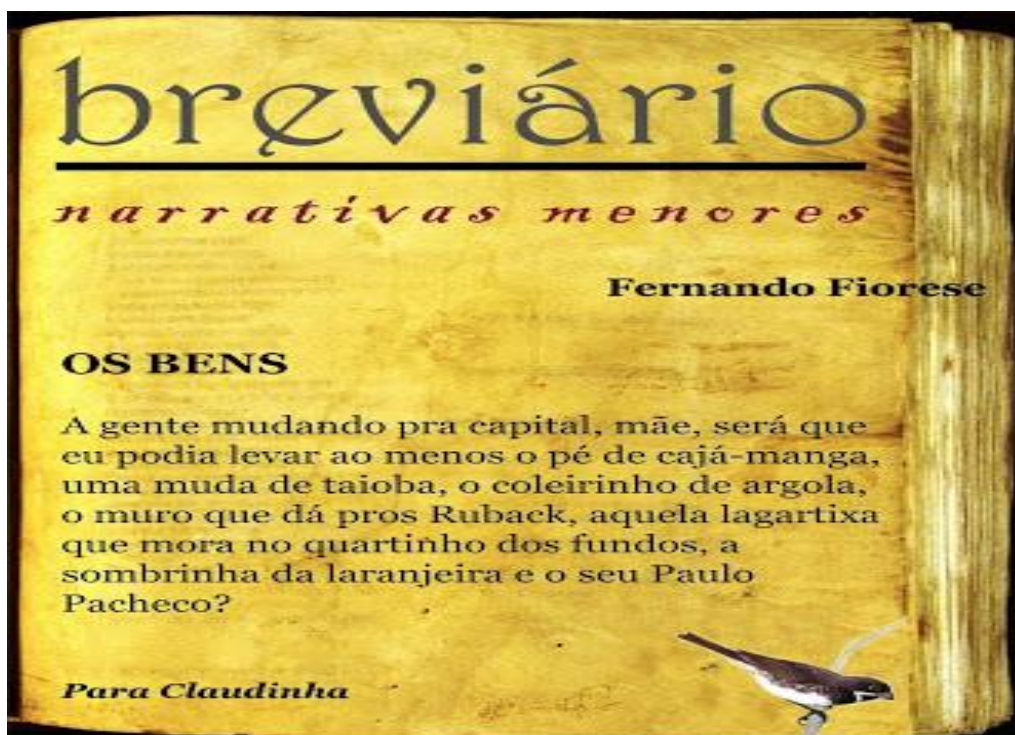
- a) concessão.
- b) causa.
- c) consequência.
- d) proporção.
- e) tempo.

38. Também o sofrimento dos adultos sensibiliza o poeta. Prova-o a seguinte passagem:

- a) “Depois, em sulcos compridos...” (sétima estrofe)
- b) “Por que lhes dais tanta dor?!” (oitava estrofe)
- c) “Os traços miniaturais...” (sexta estrofe)
- d) “Como quem chama por mim...” (primeira estrofe)
- e) “Da pobre gente que avança...” (sexta estrofe)



Texto V



FIGURESE, Fernando. *Os bens*. Disponível em: <<http://corpoportatil.blogspot.com.br>>. Acesso em: 27 ago. 2013.

Avalie as seguintes afirmativas:

- I) Nessa narrativa, a concepção do personagem sobre o que sejam bens contraria o senso comum.
- II) A expressão “ao menos” pode ser, contextualmente, substituída por “no mínimo”.
- III) Apesar da força poética, a heterogeneidade dos elementos tratados como bens revela profunda incoerência da personagem.

39. Avaliadas as afirmações, marque a alternativa **CORRETA**.

- a) As três afirmações são adequadas ao texto.
- b) As três afirmações são inadequadas ao texto.
- c) As afirmações (I) e (III) são adequadas ao texto.
- d) As afirmações (I) e (II) são adequadas ao texto.
- e) Somente a afirmação (III) é adequada ao texto.



**Texto VI**

Prefeitura Municipal de São Carlos

Of. nº 112-08-GABINETE

São Carlos, 2 de fevereiro de 2009.

Senhor Fulano de Tal  
Ministro da Educação e do Desporto  
Brasília – DF

Senhor Ministro:

Tenho a satisfação de convidar V. Exa. para os atos de inauguração da Escola Técnica Federal Camilo Pena, edificada em parceria desta prefeitura com o Ministério da Educação e do Desporto. Será uma ocasião apropriada para manifestar a V. Exa. o reconhecimento desta comunidade pelo empenho de seu Ministério, e o seu pessoal, na concretização deste antigo sonho, afinado com as exigências da sociedade de propiciar à juventude educação adequada aos tempos atuais.

Proponho a data de 27 do corrente mês para a realização da cerimônia. Aguardo confirmação, para poder ultimar, junto à sua assessoria, o protocolo dos atos inaugurais.

Com muito apreço,

*Giacomo Luiz do Prado*

Prefeito

ZANOTTO, Normelio. *Correspondência e redação técnica*. 2. ed. Caxias do Sul: EDUCS, 2009. p. 149.  
Adaptado.

**40.** Lido o texto, avalie as seguintes proposições.

- I) Por meio do centésimo décimo segundo ofício, expedido no mês de fevereiro de 2009, o gabinete do Prefeito Municipal de São Carlos convidou o ministro da Educação e do Desporto para a inauguração de escola técnica federal, evento que se realizou em 27 de fevereiro de 2009.
- II) Caso o ministro não tenha comparecido, não lhe foi possível saber da gratidão da comunidade de São Carlos pelo apoio ministerial ao empreendimento da escola técnica.
- III) No primeiro parágrafo, a palavra pessoal (“e o seu pessoal”) refere-se aos funcionários que assessoram o ministro da Educação e do Desporto.

Avaliadas as proposições, aponte a alternativa **CORRETA**.

- a) Todas as proposições são comprovadas pelo texto.
- b) Nenhuma das proposições é comprovada pelo texto.
- c) Somente as proposições (I) e (III) são comprovadas pelo texto.
- d) Somente as proposições (I) e (II) são comprovadas pelo texto.
- e) Somente a proposição (I) não é comprovada pelo texto.



### Texto VII

Por este instrumento de procuração, a firma Ruiz, Marconi & Cia, estabelecida na Rua São Martinho, 4 158, em Maceió, AL, e inscrita no CNPJ/MF sob nº 35 683 844/0001-35, com contrato de constituição arquivado na Junta Comercial do Estado e Alagoas sob nº 3 486/97, nomeia seu bastante procurador o Dr. Estêvão Caetano Buzzi, brasileiro, casado, advogado, Cédula de Identidade nº 935 046 (AL), CPF 085 497 634-10, inscrito na OAB sob nº 3 417, com escritório na Avenida Ribeiro da Costa, 580, salas 50 e 52, em Maceió, AL, para o fim especial de representá-la na escritura de venda e compra a lhe ser outorgada pelo Sr. Joaquim Onofre de Medeiros e sua mulher, D. Ivonilde Maria Oliveira de Medeiros, do lote 45 da planta do Jardim Comercial, com 675m<sup>2</sup>, situado na Rua F, nesta cidade, podendo pagar o preço já estipulado pelos vendedores e receber quitação, aceitar e assinar a respectiva escritura, promover a transcrição da propriedade adquirida e praticar os demais atos indispensáveis ao total desempenho deste mandato, bem como substabelecê-lo no todo ou em parte.

Maceió, 8 de agosto de 2009.

Juan Pedro Ruiz

DIRETOR-PRESIDENTE

(...)

FERREIRA, Reinaldo Mathias; LUPPI, Rosaura de Araújo Ferreira. *Correspondência comercial e oficial: com técnicas de redação*. 15. ed. São Paulo: Martins Fontes, 2011. p. 145.

41. Avalie as seguintes afirmações:

- I) Os pronomes a e lhe, em “representá-la” e “a lhe ser outorgada”, referem-se à firma Ruiz, Marconi & Cia.
- II) O senhor Joaquim Onofre de Medeiros e sua mulher, D. Ivonilde Maria Oliveira de Medeiros, estão vendendo lote em Alagoas, sendo representados, no ato, por Estêvão Caetano Buzzi.
- III) Em hipótese alguma, será permitido ao procurador transferir a outrem os poderes que lhe foram concedidos na procuração.

Avaliadas as afirmações, aponte a alternativa **CORRETA**.

- a) Todas as afirmações estão corretas.
- b) Todas as afirmações estão incorretas.
- c) Somente as afirmações (I) e (III) estão corretas.
- d) Somente as afirmações (I) e (II) estão corretas.
- e) Somente a afirmação (I) está correta.



## Texto VIII

### O inventor do drive-thru

O ano era 1931. Royce Hailey acabara de ser promovido a gerente de uma lanchonete tradicional de Dallas, no Texas, a Pig Stands. Aos 21 anos, mesmo sem saber dirigir, seu sonho era o de todo jovem americano da época: comprar um carro. Mas os Estados Unidos viviam os anos duros da recessão, depois da quebra da bolsa em 1929, e o Pig Stands estava às moscas. Os ombros do jovem gerente doíam pela pesada responsabilidade de fazer que os clientes voltassem a ocupar as mesas do restaurante.

Um dia, ouviu de seu patrão uma máxima inspiradora: "As pessoas que têm carro são tão preguiçosas que não querem sair dele nem para comer". Ele percebeu que era esse tipo de gente que precisava agradar. A solução encontrada por Royce foi original. Colocou, na entrada da lanchonete, uma plaqueta em que se lia "drive-thru" – literalmente, "dirija por" – um serviço até então nunca visto. Os clientes gostaram da novidade e, em pouco tempo, um congestionamento de Fords Modelo T e de outros calhambeques se formou diante da lanchonete. Só os gramáticos protestaram. Afinal, no vernáculo anglo-saxão, deveria ser "drive-through", e não a corruptela "thru". De qualquer maneira, um pedestre acabara de inventar a roda na história da alimentação.

Royce Hailey era um sujeito carismático e energético que nasceu em 1910 e aos 14 anos já trabalhava na lanchonete. O drive-thru não foi sua única boa ideia. Hailey também é responsável por uma das mais deliciosas invenções gastronômicas nas bandejas de fast food: os *onion rings*, anéis de cebola à milanesa. Em 1939, ele também transformou a Pig Stands na primeira lanchonete com luzes fluorescentes de que se tem notícia.

Em comparação com os atuais, o primeiro drive-thru da história era bem rudimentar. O motorista se dirigia aos fundos do Pig Stands e fazia o pedido diretamente para a cozinha. O próprio cozinheiro vinha trazer a encomenda, num pacote marrom sem identificação. Para beber, nada de refrigerante. Os motoristas saíam do Pig Stands tomando cerveja ao volante de seus calhambeques.

Apesar do sucesso, a ideia custou a se espalhar na terra do automóvel. A rede de lanchonetes Wendy's só aderiu ao sistema na década de 70 e o primeiro McDonald's com drive-thru só foi aberto em 1975. Hoje, claro, tudo mudou. 90% das lojas americanas de fast food têm caixas expressas de drive-thru. A QSR, importante publicação do setor de alimentação, faz um ranking anual dos melhores (e piores) drive-thrus do mercado. O sistema financeiro criou o *drive-thru banking* e até casamentos são realizados com o sistema – em Las Vegas, onde mais?

Royce Hailey tornou-se um empresário de sucesso e, em 1955, comprou o Pig Stands, que funciona até hoje. A presidência do grupo é ocupada por Richard Hailey, seu filho. Ao contrário dos outros pioneiros do fast-food, ele não buscou criar um império. O pai do drive-thru só queria mesmo tirar a lanchonete do vermelho. Royce morreu em 1996 e é bem possível que ficasse orgulhoso sempre que pensava na plaqueta que colocou na frente da sua lanchonete.

OPPERMANN, Álvaro. O inventor do drive-thru. *Superinteressante*, São Paulo, n. 202, p. 28, jul. 2004.



42. Adjetivo que melhor traduz a criação de Royce Hailey, em 1931, considerando-se a situação econômica vivenciada pelo Pig Stands:

- a) inoportuno.
- b) providencial.
- c) profético.
- d) irrisório.
- e) insignificante.

43. Considerando-se a leitura global do texto, analise as afirmações abaixo:

- I) Ainda muito jovem, Royce Hailey ascendeu ao cargo de gerente da Pig Stands e, em uma época de crise, viu-se na necessidade de resgatar clientes.
- II) Royce Hailey idealizou uma forma de alavancar os negócios da Pig Stands e, ao dar curso à sua ideia, descuidou-se do vernáculo inglês.
- III) Com a invenção do *drive-thru*, Royce Hailey pôde contribuir para diminuir a preguiça dos clientes da Pig Stands.
- IV) Ambicioso, Royce Hailey – além do *drive-thru* – teve outras ideias iluminadas, que contribuíram para o prestígio internacional da Pig Stands.
- V) Em relação à ideia pioneira de Royce Hailey, os atuais serviços de *drive-thru* se sofisticaram.
- VI) Somente algumas décadas após sua invenção, o sistema de *drive-thru* se alastrou pelos Estados Unidos.

Analisadas as afirmações, aponte a alternativa **CORRETA**.

- a) Todas as afirmações são verdadeiras.
- b) Todas as afirmações são falsas.
- c) Somente as afirmações (I) e (II) são verdadeiras.
- d) Somente as afirmações (III) e (IV) são falsas.
- e) Somente as afirmações (V) e (VI) são falsas.

44. Estivesse no Brasil, Royce Hailey **só agradaria aos gramáticos** se escrevesse algo do tipo:

- a) Temos frango ao molho pardo.
- b) Aqui, hamburguer recheado.
- c) Cachorro quente abrigado.
- d) Especialidade da casa: cuzcuz.
- e) Temos lasanha de bacalhau.

#### Texto IX

#### Mágoas

1  
Das mágoas que não se dizem,  
Às mágoas que não se esquecem,  
Há mágoas várias no mundo,  
Há mágoas de toda espécie.  
Há mágoas que deixam cortes  
Profundos em nosso ser  
Mágoas que matam a alma,  
Deixando o corpo viver.  
Mágoas pulsando constantes

2  
E mágoas intermitentes,  
São sempre tristes as mágoas  
Ocultas ou transparentes.  
Há tantas e tantas mágoas  
Que nos fazem padecer,  
Porém a pior das mágoas  
É a mágoa que a gente sente  
E sofre terrivelmente  
Sem mesmo saber por quê!

MEDEIROS, Juvenal. Mágoas. In: \_\_\_\_\_. *Convite*. Juiz de Fora: Notas e Letras, 2004. p. 38.



45. Na visão do poeta, “a pior das mágoas” é a mágoa:

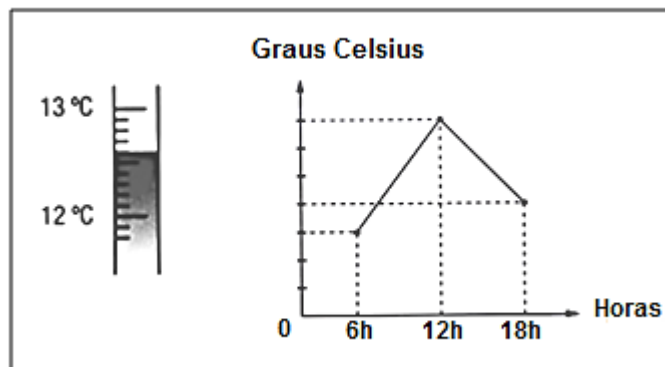
- a) inesquecível.
- b) intermitente.
- c) transparente.
- d) incompreensível.
- e) permanente.

## RACIOCÍNIO LÓGICO-QUANTITATIVO

46. O gramado de uma praça tinha a forma de um círculo de 50 metros de raio. O Prefeito da cidade decidiu reduzir o raio da área gramada para 40 metros, a fim de construir uma pista calçada para corrida ou para ciclistas, ao redor do gramado. Sendo assim, a área gramada foi reduzida em:  
NOTA: Para os cálculos, aproxime  $\pi$  para 3,14.

- a) 64%.
- b) 1600 m<sup>2</sup>.
- c) 900 m<sup>2</sup>.
- d) 36%.
- e) 20%.

47. O termômetro a seguir representa a temperatura de uma certa cidade da região sul do Brasil às 6 h de determinado dia. O gráfico indica a variação de temperatura dessa mesma cidade das 6 h às 18 h desse mesmo dia e está na escala indicada no eixo vertical, que foi dividido em partes iguais.



De acordo com as informações fornecidas, a média aritmética das temperaturas registradas nessa cidade às 6h, 12h e 18h nesse mesmo dia é?

- a) 19,6 °C.
- b) 16,8 °C.
- c) 12,6 °C.
- d) 29,4 °C.
- e) 13,2 °C.





48. Na compra de um produto, para pagamento em parcelas iguais, uma dona de casa foi informada de que a parcela paga até a data do vencimento teria um desconto de 20% e aquela paga com atraso teria um acréscimo de 20%. Se a primeira parcela foi paga no vencimento e a segunda com atraso, o segundo pagamento teve, em relação ao primeiro, um acréscimo de:

- a) 40% .
- b) 48% .
- c) 50% .
- d) 20% .
- e) 25% .

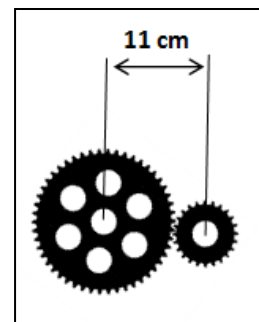
49. Duas piscinas no formato de um paralelepípedo têm o mesmo comprimento, a mesma largura e profundidades diferentes. A piscina A tem 175 cm de profundidade e um volume de água de 35 m<sup>3</sup>. O volume de água, em m<sup>3</sup>, da piscina B, que tem 2 m de profundidade é:

- a) 25.
- b) 30.
- c) 35.
- d) 40.
- e) 45.

50. Uma máquina possui duas engrenagens circulares (figura), sendo a distância entre seus centros igual a 11 cm. Sabe-se que a engrenagem menor dá 1000 voltas no mesmo tempo em que a maior dá 375 voltas, e que os comprimentos dos dentes de ambas têm valores desprezíveis.

A medida, em centímetros, do raio da engrenagem menor equivale a:

- a) 2,5.
- b) 3,0.
- c) 3,5.
- d) 4,0.
- e) 4,5.



51. Na operação de adição a seguir, letras diferentes representam algarismos diferentes. Sendo assim, nessa operação, os algarismos que A, B e C podem assumir para que seu resultado esteja correto são, respectivamente:

- a) 1, 2 e 3.
- b) 2, 0 e 8.
- c) 3, 0 e 1.
- d) 0, 1 e 2
- e) 1, 0 e 9.

$$\begin{array}{r} \text{A B} \\ + \text{C A} \\ \hline \text{A B A} \end{array}$$

52. Uma confecção vende cada peça de jeans por R\$90,00. O custo total de produção do jeans consiste em um gasto fixo de R\$ 6.000,00, somado ao custo de confecção de R\$ 50,00 por unidade. Para não ter prejuízo, o fabricante precisa vender, no mínimo:

- a) 75 unidades.
- b) 15 unidades.
- c) 300 unidades.
- d) 150 unidades.
- e) 220 unidades.



53. A roda de uma bicicleta tem 30 cm de raio. Para percorrer uma distância de 753,60 m, o número de voltas que a roda deve dar é:

NOTA: Para os cálculos, aproxime  $\pi$  para 3,14.

- a) 400.
- b) 350.
- c) 40.
- d) 200.
- e) 260.

54. Leia o texto:

#### Nova gasolina reduzirá emissão de enxofre


A emissão de enxofre na atmosfera terá uma redução a partir do dia 01 de janeiro de 2014, em todo o território nacional, da gasolina S50, que passou a conter, no máximo, 50 partes por milhão de enxofre. Antes, a gasolina comercializada no Brasil possuía 800 partes por milhão de enxofre. Em 2012, o consumo de gasolina automotiva girou em torno de 39 bilhões de litros. Em 2013, estima-se um consumo anual de, aproximadamente, 41 bilhões de litros.

**Adaptado:** Disponível em: <http://www.brasil.gov.br/infraestrutura/2014/01/nova-gasolina-reduzira-emissao-de-enxofre-em-94>. Acesso em: 20 de fev. 2014.

De acordo com o texto, a emissão de enxofre na atmosfera, a partir de 2014, terá uma redução de:

- a) 90%.
- b) 93,75%.
- c) 6,25%.
- d) 16%.
- e) 40%.

55. O Sistema Cantareira (figura a seguir) é um dos maiores sistemas de captação e tratamento de água do mundo, responsável pelo abastecimento de grande parte da cidade de São Paulo. Em 21 de fevereiro de 2014, o sistema apresentou o menor índice desde a sua criação, com apenas 16,9% de sua capacidade.



Como plano emergencial há a possibilidade de uso do "volume morto" dos reservatórios do Jacareí e Atibainha, caso os níveis de água continuem baixos. De acordo com as informações da figura, o tempo que a "Estação de tratamento" precisa para tratar os 400 milhões de metros cúbicos do "volume morto" é:

- a) entre 3 300 horas e 4 000 horas.
- b) menos de 3 300 horas.
- c) exatamente 3 300 horas.
- d) mais de 200 mil horas.
- e) entre 100 mil e 150 mil horas.



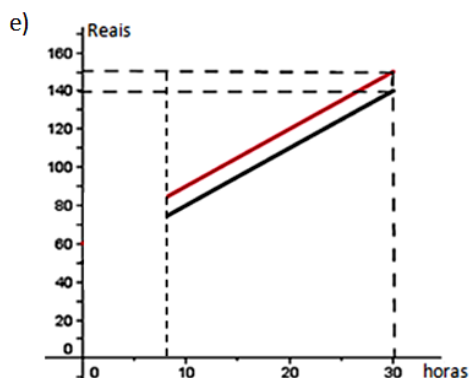
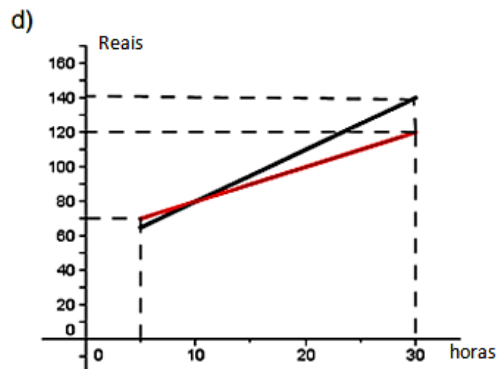
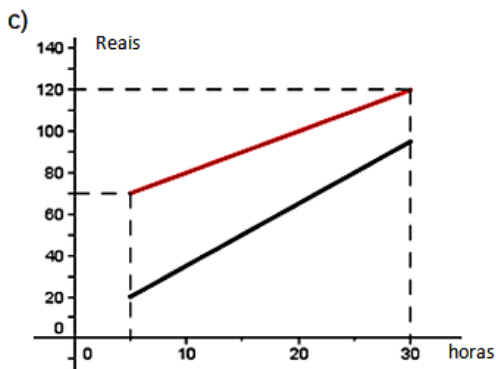
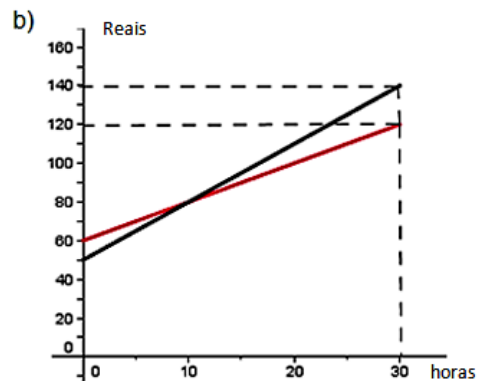
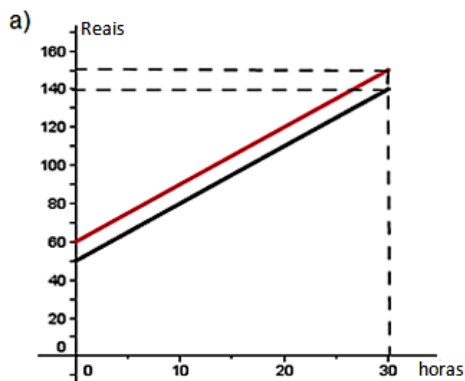
56. Seu Manoel da mercearia decidiu colocar em oferta as muçarelas e os presuntos que estavam com validade próximas do vencimento. Os pacotes de presunto têm 400 g e os de muçarela 500 g, num total de 42 unidades. Comprando “1 pacote de presunto + 1 pacote de muçarela”, o cliente terá 40% de desconto no total. Sabendo que, juntas, as 42 unidades pesam 18,5 Kg, determine a quantidade de pacotes de presunto que restarão para serem vendidos separadamente.

- a) 25
- b) 17
- c) 16
- d) 10
- e) 8

57. Os planos de duas empresas de TV por assinatura são:

- Na empresa A, o cliente paga o valor de R\$ 50,00 pela programação fixa e R\$ 3,00 por cada hora de programação extra contratada.
- Na empresa B, o cliente paga o valor de R\$ 60,00 pela programação fixa e R\$ 2,00 por cada hora de programação extra contratada.

O gráfico que melhor representa a variação do valor a ser pago, em reais, nos dois planos, para um cliente que pretende utilizar até 30 horas de programação extra, está na alternativa:





58. Observe a tabela com as informações das áreas das capitais da região Sudeste:

Capital	Estado	Área (km <sup>2</sup> )	População em 2010
<u>Belo Horizonte</u>	<u>Minas Gerais</u>	1.200,278	2.375.151
<u>Rio de Janeiro</u>	<u>Rio de Janeiro</u>	1.200,278	6.320.446
<u>São Paulo</u>	<u>São Paulo</u>	1.521,101	11.253.503
<u>Vitória</u>	<u>Espírito Santo</u>	98,194	327.801

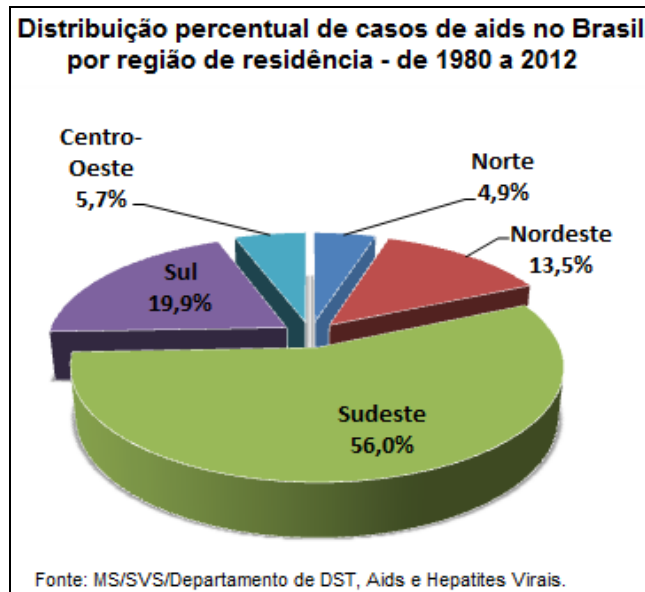
Fonte: IBGE.

Em conversas informais, é comum as pessoas compararem áreas muito grandes com campos de futebol. As medidas oficiais do campo do Maracanã eram **110 m x 75 m**. Após a reforma para a Copa do Mundo de 2014, as dimensões foram modificadas para **105 m x 68 m**. Desse modo, comparando a área da cidade de São Paulo com a área do campo de futebol do Maracanã, antes e depois da reforma, é **CORRETO** afirmar que:

- a) antes da reforma do Maracanã, São Paulo correspondia, aproximadamente, a 136 campos de futebol; depois da reforma, passou para, aproximadamente, 158 campos de futebol.
- b) a reforma do Maracanã não alterou a quantidade de campos de futebol na comparação com a área da cidade de São Paulo, pois a medida da área da cidade de São Paulo não variou.
- c) antes da reforma do Maracanã, São Paulo correspondia, aproximadamente, a 136 mil campos de futebol; depois da reforma, passou para, aproximadamente, 158 mil campos de futebol.
- d) antes da reforma do Maracanã, São Paulo correspondia, aproximadamente, a 185 mil campos de futebol; depois da reforma, passou para, aproximadamente, 213 mil campos de futebol.
- e) antes da reforma do Maracanã, São Paulo correspondia, aproximadamente, a 185 campos de futebol; depois da reforma, passou para, aproximadamente, 213 campos de futebol.



59. O gráfico a seguir apresenta o percentual de casos de aids no Brasil, no período de 1980 a 2012, por região de residência.



Considerando os dados acumulados de 1980 a junho de 2012 no Brasil, foram notificados um total de 656.701 casos de aids, dos quais 64,9% eram do sexo masculino e 35,1% do sexo feminino.

De acordo com os dados, marque a alternativa **INCORRETA**.

- a) A região com maior incidência de registros de casos de aids é a Sudeste, com 56%, ou seja, 130.942 registros.
  - b) A região Sul registrou 130.683 casos de aids no período de 1980 a 2012.
  - c) As regiões Norte e Nordeste juntas somam mais registros de casos de aids do que a região Sul.
  - d) A região com menor incidência de registros de casos de aids é a Norte, com 4,9%.
  - e) A região Sul registrou mais de 131 mil casos de aids.
60. Uma seleção de futebol é composta por 23 jogadores, entre titulares e reservas. Em um treino, o técnico distribuiu para os jogadores camisas numeradas de 1 a 23, usando o seguinte critério: as camisas 1, 2 e 3 foram destinadas aos três goleiros, as demais camisas foram distribuídas aleatoriamente entre os demais jogadores. Depois, deixou o goleiro de camisa número 1 na reserva e formou duas equipes: na equipe 1 ficaram os jogadores com camisas de numeração par e na equipe 2 os jogadores com camisas de numeração ímpar. Escolhendo-se, ao acaso, um jogador da equipe 2, qual a probabilidade de que ele tenha uma numeração de camisa superior a 15?

- a)  $\frac{1}{11}$
- b)  $\frac{2}{11}$
- c)  $\frac{3}{11}$
- d)  $\frac{4}{11}$
- e)  $\frac{5}{11}$



**GABARITO PROVA - AUXILIAR EM ADMINISTRAÇÃO**

1.	<b>B</b>
2.	<b>B</b>
3.	<b>D</b>
4.	<b>D</b>
5.	<b>E</b>
6.	<b>D</b>
7.	<b>A</b>
8.	<b>C</b>
9.	<b>E</b>
10.	<b>C</b>
11.	<b>D</b>
12.	<b>C</b>
13.	<b>A</b>
14.	<b>A</b>
15.	<b>B</b>
16.	<b>C</b>
17.	<b>E</b>
18.	<b>C</b>
19.	<b>A</b>
20.	<b>D</b>
21.	<b>C</b>
22.	<b>B</b>
23.	<b>A</b>
24.	<b>C</b>
25.	<b>E</b>
26.	<b>D</b>
27.	<b>C</b>
28.	<b>C</b>
29.	<b>B</b>
30.	<b>E</b>

31.	<b>B</b>
32.	<b>D</b>
33.	<b>A</b>
34.	<b>C</b>
35.	<b>A</b>
36.	<b>B</b>
37.	<b>C</b>
38.	<b>E</b>
39.	<b>D</b>
40.	<b>B</b>
41.	<b>E</b>
42.	<b>B</b>
43.	<b>D</b>
44.	<b>E</b>
45.	<b>D</b>
46.	<b>D</b>
47.	<b>A</b>
48.	<b>C</b>
49.	<b>D</b>
50.	<b>B</b>
51.	<b>E</b>
52.	<b>D</b>
53.	<b>A</b>
54.	<b>B</b>
55.	<b>A</b>
56.	<b>E</b>
57.	<b>B</b>
58.	<b>D</b>
59.	<b>C</b>
60.	<b>D</b>