



UNIVERSIDADE  
FEDERAL DE JUIZ DE FORA

COMISSÃO PERMANENTE DE SELEÇÃO

COPESE

CONCURSO PÚBLICO TAE – 2014

CAMPUS DE JUIZ DE FORA - MG



*Digiselo*

PROVA TEÓRICA

# AUXILIAR DE BIBLIOTECA

LER COM ATENÇÃO AS INSTRUÇÕES PARA A REALIZAÇÃO DA PROVA (Edital 13/2014 - Item 7.3.1)  
Preenchimento do Cartão de Respostas – p. 3  
Instruções gerais – p. 4

NOME LEGÍVEL: .....

ASSINATURA: .....

INSCRIÇÃO:

--	--	--	--	--

ANOTE ABAIXO SUAS RESPOSTAS – Somente o fiscal poderá cortar a parte de baixo desta folha, para que você a leve consigo.

UFJF – CONCURSO PÚBLICO TAE 2014 – CAMPUS DE JUIZ DE FORA – AUXILIAR DE BIBLIOTECA

01		02		03		04		05		06		07		08		09		10		11		12	
13		14		15		16		17		18		19		20		21		22		23		24	
25		26		27		28		29		30		31		32		33		34		35		36	
37		38		39		40		41		42		43		44		45		46		47		48	
49		50		51		52		53		54		55		56		57		58		59		60	





## **INSTRUÇÕES PARA MARCAÇÃO DO CARTÃO DE RESPOSTAS:**

*1 - Na correção dos cartões de respostas, para efeito de pontuação, será **desconsiderada**:*

- *questão que não apresentar nenhuma opção assinalada;*
- *questão que contiver mais de uma opção assinalada, sejam estas marcações acidentais ou não, independentemente da dimensão, ocasionadas por borrões, corretivos, emendas, manchas, pontos, sombreados de lápis ou caneta, traços ou quaisquer outros tipos de rasuras.*

*2 - Para que o candidato não se enquadre em nenhuma dessas situações, tendo alguma questão anulada devido a múltiplas marcações, é imprescindível que ele tenha o máximo de atenção, cuidado e capricho ao transcrever as respostas das questões do caderno de provas para o cartão de respostas.*

*3 - Em hipótese alguma, será fornecido outro cartão de respostas, portanto, é preciso que o candidato fique atento e preencha, corretamente, **apenas uma** das cinco alternativas em cada questão, utilizando **caneta esferográfica azul ou preta de corpo transparente**, conforme a figura abaixo:*





## **INSTRUÇÕES PARA A REALIZAÇÃO DA PROVA**

(EDITAL 13/2014 - 7.3.1. As disposições e instruções contidas no(s) Cadernos de Prova constituirão normas complementares ao presente edital.)

- ***Será excluído do concurso o candidato que em sala de prova portar celulares, armas e aparelhos eletrônicos.***
- ***O candidato não pode usar boné, capacete, chapéu, chaveiro de qualquer tipo, óculos escuros, relógio e similares.***
- ***Quando solicitado pelo Fiscal, o candidato deve assinar a Ata de Abertura do Lacre.***
- ***Junto ao candidato, só devem permanecer os objetos de identificação e os materiais para execução da prova. Todo e qualquer outro material, exceto alimentos, água em garrafa transparente e medicamentos, têm de ser colocados no saco plástico disponível, amarrado e colocado embaixo da cadeira.***
- ***O candidato que possuir cabelos compridos deve mantê-los presos, deixando as orelhas descobertas.***
- ***O candidato deve conferir se sua prova tem 15 questões de Língua Portuguesa, 10 de Raciocínio Lógico-Quantitativo, 5 de Legislação e 30 de Conhecimentos Específicos do cargo, sendo cada questão constituída de 5 alternativas (a, b, c, d, e) e numeradas de 01 a 60. Caso haja algum problema, solicitar a substituição de seu caderno ou folha.***
- ***O candidato deve comunicar sempre aos fiscais qualquer irregularidade observada durante a realização da prova. Não sendo tomadas as devidas providências a respeito de sua reclamação, solicitar a presença do Coordenador do Setor ou comunicar-se com ele, na secretaria, ao final da prova.***
- ***O candidato não pode retirar nenhuma folha deste caderno.***
- ***A duração da prova, considerando a marcação do cartão de respostas, é de 4 horas. O candidato só poderá sair decorridos 1h e 30min.***
- ***O candidato deve assinar a lista de presença e o cartão de respostas com a assinatura idêntica à da sua identidade.***
- ***O candidato, ao receber o cartão de respostas, deve ler, atentamente, as instruções contidas na página 3 deste caderno.***
- ***Os três últimos candidatos deverão permanecer até o final da prova para assinar a Ata de Encerramento.***



## CONHECIMENTOS GERAIS

### LÍNGUA PORTUGUESA

➤ Leia com atenção o seguinte texto, que motiva as questões de 01 a 13 desta prova.

Tudo favorece a pirataria

1. Os brasileiros sabem que pirataria é crime e que a compra de produtos pirateados, falsificados e contrabandeados causa desemprego, lesa direitos, diminui a receita de impostos e alimenta o crime organizado. Mas, apesar disso, o mercado desses produtos prospera e os compradores são cerca de 79 milhões de pessoas, segundo pesquisa da Federação do Comércio do Estado do Rio de Janeiro (Fecomércio-RJ) em parceria com o instituto Ipsos. Os técnicos poderão discutir se a estimativa, baseada em respostas colhidas em mil domicílios situados em 70 cidades de 9 regiões metropolitanas, é confiável. Mas isso não desqualifica as principais conclusões, alarmantes, apesar de nada surpreendentes, e reforça a convicção de que há muito que fazer, ainda, para atenuar o problema.
2. O primeiro dado é uma obviedade: 93% dos consumidores de produtos do comércio ilegal apontam a diferença de preço como principal motivação da compra. Parte da diferença de preço é explicável pela pesada tributação dos bens de consumo. Os produtos mais comprados – CDs, apontados por 86% dos entrevistados, e DVDs, indicados por 35% – são muito caros para grande parte dos brasileiros.
3. Os pobres e os remediados podem comprar toca-discos e até aparelhos de DVD a prazo, nas lojas populares, pagando grande número de prestações. Os juros são altos, mas, apesar disso, as parcelas podem caber em seu apertado orçamento. O mais difícil é comprar os discos.
4. Outros produtos de consumo também atraentes, como relógios, óculos, tênis e brinquedos, são igualmente muito mais acessíveis nas bancas de produtos falsificados e contrabandeados. Como convencer as pessoas de que devem renunciar ao consumo desses bens, quando todas são bombardeadas continuamente por estímulos publicitários? Mas os consumidores não são apenas os pobres ou remediados. Quando se perguntou que produtos piratas não seriam comprados, 40% indicaram equipamentos eletrônicos, 37%, programas de computador e 30%, acessórios para veículos. A resposta “cívica” seria “nenhum”.
5. As manifestações dos entrevistados, nessa parte da pesquisa, são tão racionais, do ponto de vista do consumidor, quanto a preferência pelo preço mais baixo. Baixa qualidade foi o motivo apontado por 42% dos consumidores para a rejeição daqueles produtos. Para 14%, o problema era a falta de garantia. A intenção de evitar prejuízos para o comércio formal foi mencionada por apenas 5% dos entrevistados.
6. No entanto, as entrevistas mostraram que os consumidores têm consciência dos males causados pelo comércio ilegal. Prejuízos para o artista foram mencionados por 83%. Sonegação de impostos foi citada por um número igual. Vantagens para o crime organizado foram apontadas por 70%. Tudo isso compõe um exemplo notável de como a vantagem pessoal pode pesar mais, nas decisões de cada um, do que a percepção dos males sociais acarretados pelo crime.
7. Se os dados da pesquisa estiverem corretos, não se deve esperar muito das campanhas de conscientização. Será preciso dar muito mais peso ao trabalho de prevenção e de repressão da pirataria, da falsificação e do contrabando. [...]

*O Estado de S. Paulo, São Paulo, p. A3, 16 out. 2006. Adaptado.*

1. O principal propósito comunicativo do texto é:

- a) registrar o descaso dos consumidores com os produtos pirateados e contrabandeados.
- b) avaliar o resultado de uma pesquisa sobre produtos ilegais vendidos no Brasil.
- c) enumerar os principais produtos do comércio ilegal de produtos eletrônicos.
- d) mostrar que os produtos piratas mais comprados são os equipamentos eletrônicos, os programas de computador e os acessórios para veículos.
- e) mostrar que o governo brasileiro está prendendo os vendedores de produtos contrabandeados.



2. O principal fator apontado pela maioria dos consumidores no que se refere à motivação da compra de produtos contrabandeados e falsificados é:
- a) a boa qualidade dos produtos.
  - b) o baixo preço dos produtos.
  - c) a facilidade para adquirir as mercadorias.
  - d) a durabilidade dos produtos.
  - e) o gosto pela música.
3. O texto defende que, para um combate mais efetivo ao comércio ilegal, será necessário investir:
- a) nas campanhas de conscientização.
  - b) na organização de cartazes com palavras de ordem nas ruas.
  - c) nas propagandas na mídia televisiva.
  - d) nos trabalhos de prevenção e repressão.
  - e) na aquisição de produtos similares fabricados no Brasil.
4. A palavra “lesa”, na seguinte expressão “lesa direitos” (§ 1), pode ser substituída, sem prejuízo de sentido, por:
- a) ajuda.
  - b) notícia.
  - c) aumenta.
  - d) desrespeita.
  - e) espalha.
5. Atente para as sequências grifadas nos trechos:

“Se os dados da pesquisa estiverem corretos, não se deve esperar muito das campanhas de conscientização”. (§ 7)

“Quando se perguntou que produtos piratas não seriam comprados, 40% indicaram equipamentos eletrônicos...” (§ 4)

“Tudo isso compõe um exemplo notável de como a vantagem pessoal pode pesar mais (...) do que a percepção dos males sociais acarretados pelo crime.” (§ 6)

“... a compra de produtos pirateados (...) causa desemprego, lesa direitos, diminui a receita de impostos e alimenta o crime organizado.” (§ 1)

Semanticamente, **as sequências grifadas**, expressam, **na ordem**:

- a) condição, tempo, proporção e alternância.
  - b) causa, proporção, comparação e oposição.
  - c) consequência, tempo, comparação e alternância.
  - d) condição, tempo, comparação e explicação.
  - e) condição, tempo, comparação e adição.
6. Aponte a alternativa em que o elemento em destaque **NÃO** está corretamente identificado.
- a) “Parte da diferença de preço é explicável...” (§ 2) → sufixo
  - b) “... também atraentes, como relógios, óculos...” (§ 4) → radical
  - c) “Mas os consumidores não são apenas...” (§ 4) → sufixo
  - d) “... 40% indicaram equipamentos eletrônicos...” (§ 4) → prefixo
  - e) “... causa desemprego, lesa direitos...” (§ 1) → prefixo



7. “Se os dados da pesquisa estiverem corretos, não se deve esperar muito das campanhas de conscientização.” (§ 7)

Aponte a alternativa que identifica, na ordem, os tempos das formas verbais em destaque.

- a) futuro do subjuntivo e presente do indicativo
- b) futuro do subjuntivo e imperativo negativo
- c) pretérito imperfeito do subjuntivo e presente do indicativo
- d) futuro do subjuntivo e presente do subjuntivo
- e) pretérito mais-que-perfeito do indicativo e imperativo negativo

8. Marque a alternativa em que **a vírgula foi usada para marcar a elipse do verbo**:

- a) “Mas, apesar disso, o mercado desses produtos prospera e os compradores são cerca de 79 milhões de pessoas...” (§ 1)
- b) “Os produtos mais comprados – CDs, apontados por 86% dos entrevistados, e DVDs, indicados por 35% – são muito caros para grande parte dos brasileiros”. (§ 2)
- c) “(...) 40% indicaram equipamentos eletrônicos, 37%, programas de computador e 30%, acessórios para veículos”. (§ 4)
- d) “Para 14%, o problema era a falta de garantia. A intenção de evitar prejuízos para o comércio formal foi mencionada por apenas 5% dos entrevistados”. (§ 5)
- e) “(...) e que a compra de produtos pirateados, falsificados e contrabandeados causa desemprego, lesa direitos, diminui a receita de impostos e alimenta o crime organizado”. (§ 1)

9. Leia o seguinte trecho: “Como convencer as pessoas de que devem renunciar ao consumo desses bens, quando todas são bombardeadas continuamente por estímulos publicitários?” (§ 4)

Assinale a alternativa em que o verbo, assim como o que está assinalado no trecho anterior, rege dois objetos.

- a) Em Nova Jerusalém, assistimos à representação da Paixão de Cristo.
- b) O uso dos meios de comunicação implica uma enorme responsabilidade.
- c) As diversões de que mais gosto são cinema e televisão.
- d) Os maus políticos se esquecem de suas promessas.
- e) Fernanda prefere uma crítica sincera a elogios exagerados.

10. Leia o trecho:

“... 93% dos consumidores de produtos do comércio ilegal apontam a diferença de preço como principal motivação da compra.” (§ 2)

Inspirados nesse trecho, poderíamos, obedecendo à regência recomendada pela norma culta, escrever algo assim:

- a) 93% dos consumidores de produtos do comércio ilegal aspiram preços baixos.
- b) 93% dos consumidores de produtos do comércio ilegal aspiram aqueles preços mais baixos.
- c) 93% dos consumidores de produtos do comércio ilegal aspiram àquelas boas condições de pagamento.
- d) 93% dos consumidores de produtos do comércio ilegal aspiram a pechincha da pirataria.
- e) 93% dos consumidores de produtos do comércio ilegal aspiram os preços baixos.



11. Escreve o autor que “Os pobres e os remediados podem comprar toca-discos...”. (§ 3) Haveria, entretanto, **ERRO** de concordância, se escrevesse algo assim:

- a) Já faz alguns anos que os pobres e os remediados podem comprar toca-discos.
- b) Já faz alguns anos que podem os pobres e os remediados comprar toca-discos.
- c) Já está fazendo alguns anos que os pobres e os remediados podem comprar toca-discos.
- d) Não resta dúvidas de que pode o pobre e o remediado comprar toca-discos.
- e) Não havia dúvidas de que o pobre e o remediado podem comprar toca-discos.

12. O texto que introduz esta prova começa assim: “Os brasileiros sabem que pirataria é crime...”. (§ 1) Caso o autor optasse por “Os brasileiros sabem que pirataria é fogueira em que se queimam impostos e empregos...”, ele estaria, com a expressão grifada, valendo-se de uma:

- a) aliteração.
- b) elipse.
- c) metáfora.
- d) antítese.
- e) metonímia.

13. Atento à acentuação gráfica vigente, o autor escreveu: “Prejuízos para o artista foram mencionados por 83%.” (§ 6). Cometeria, entretanto, **ERRO** caso escrevesse algo assim:

- a) O juíz condenou todos aqueles que vendiam produtos pirateados.
- b) Somente ontem o magistrado pôde julgar os crimes de contrabando.
- c) O procurador deverá arguir todos os suspeitos de pirataria.
- d) Deve haver mesmo quem só comercie produtos pirateados.
- e) No baú do joalheiro, foram encontrados relógios contrabandeados.

➤ **Leia com atenção o seguinte texto, que motiva as questões de 14 e 15 desta prova.**



(O Estado de S. Paulo, 29/7/2006.)

14. O efeito de humor produzido pela tirinha resulta do (da):

- a) jogo de palavras entre vocábulos de tonicidades distintas.
- b) desobediência ao sistema ortográfico vigente.
- c) ambiguidade provocada pelo vocábulo areia.
- d) menção à existência de areia em regiões tão diferentes.
- e) emprego inadequado da forma verbal têm.





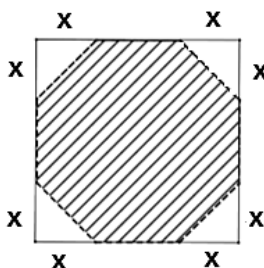
15. Assim como “deserto” e “coisas”, grafam-se **CORRETAMENTE** com “s” todas as palavras da seguinte alternativa:

- a) embriaguês – pretensão – compreensivo – limpidês
- b) cortesia – cortesmente – espontâneo – esplêndido
- c) norueguês – através – quisesse – desmaselo
- d) paralisar – paralisação – civilisar – civilização
- e) corisa – algararra – lisonjeado – náusea

## MATEMÁTICA

16. Cortando as pontas de uma placa quadrada de madeira de  $1\text{m}^2$  de área, um marceneiro pretende construir um tampo de mesa no formato de um octógono regular (Figura). A distância **X** onde esse profissional deve realizar seus cortes, a partir das extremidades da placa, é de aproximadamente: (Atenção, caso necessário utilize  $\sqrt{2} \cong 1,4$ )

- a) 10 cm.
- b) 20 cm.
- c) 30 cm.
- d) 40 cm.
- e) 50 cm.



17. Uma rampa de inclinação constante tem 4 metros de altura na sua parte mais alta. Uma pessoa, tendo começado a subi-la, nota que, após caminhar 13 metros sobre a rampa, está a 1,5 metros de altura em relação ao solo. A distância, em metros, que essa pessoa ainda deve caminhar para atingir o ponto mais alto da rampa é:

- a) uma dízima não periódica menor do que 30.
- b) um número natural múltiplo de 5.
- c) um número irracional.
- d) o dobro da distância que ela já percorreu.
- e) uma dízima periódica menor do que 30.



18. Para fazer uma viagem segura a lugares não conhecidos, é comum as pessoas buscarem na Internet informações sobre o percurso e a distância. Procedendo dessa maneira, um motorista da cidade de Conselheiro Lafaiete-MG, que planeja fazer a viagem de carro até a cidade de Brumadinho-MG, onde está localizado o maior centro de arte ao ar livre no Instituto de Inhotim, obteve na Internet as informações constantes do mapa a seguir:




Disponível em: <<https://maps.google.com.br/>>. Acesso em: 12 ago. 2013.

O comprimento da estrada que liga as cidades de Conselheiro Lafaiete-MG (ponto A) a Brumadinho-MG (ponto B) é de 6cm. A escala do mapa é 1:1.800.000. Desse modo, a distância real, dada em quilômetros, entre as cidades de Conselheiro Lafaiete-MG e Brumadinho-MG, é de, aproximadamente:

- a) 10,8 quilômetros.
  - b) 18 quilômetros.
  - c) 108 quilômetros.
  - d) 18.000 quilômetros.
  - e) 10.800 quilômetros.
19. Os dados informados no gráfico abaixo referem-se à quantidade média, em toneladas, dos principais componentes do lixo seco que foram reciclados anualmente no Brasil, nos últimos anos. Esse total representa apenas, aproximadamente, 25% do lixo seco produzido no Brasil, no período analisado. Então, nesse mesmo período, a quantidade total de lixo seco produzido anualmente e a quantidade que deixou de ser reciclada, em toneladas, é de, respectivamente:

- a) 28.496 mil e 21.372 mil.
- b) 21.372 mil e 28.456 mil.
- c) 30.147 mil e 19.569 mil.
- d) 7.124 mil e 28.456 mil.
- e) 7.124 mil e 21.372 mil.



Disponível em: <[Revistaepoca.globo.com](http://Revistaepoca.globo.com)>. Acesso em: jan. 2012.

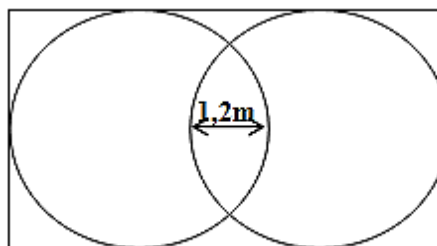


20. A probabilidade de escolhermos, ao acaso, um dos divisores positivos do 30 e que ele seja um número ímpar é de:

- a)  $\frac{1}{6}$ .
- b)  $\frac{3}{8}$ .
- c)  $\frac{4}{15}$ .
- d)  $\frac{1}{2}$ .
- e)  $\frac{1}{10}$ .

21. Um fazendeiro pretende cercar uma área de forma retangular, a fim de construir dois chiqueiros, visto que precisa separar os porcos das porcas. Esses chiqueiros terão, cada um, a forma de um círculo com 5 metros de diâmetro, e serão tangentes cada um a três lados da cerca. Porém, com o objetivo de economia, o fazendeiro quer deixar uma área comum entre os chiqueiros com 1,2 metros de largura, onde ficará o cocho de alimentação dos suínos (Veja a figura). Sendo assim, o perímetro do cercado retangular que o fazendeiro pretende construir será de:

- a) 30m.
- b) 37,6m.
- c) 27,6m.
- d) 2.670cm.
- e) 31m.

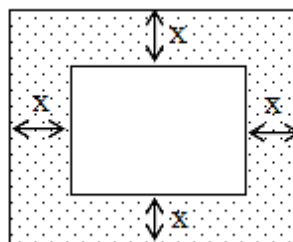


22. Os raios do sol incidem sobre um prédio projetando uma sombra de 40m. No mesmo instante, o sol projeta a sombra de 8m de um poste que possui 3m de altura. Considerando essas informações, a altura do prédio, em metros, é:

- a) 18.
- b) 15.
- c) 5.
- d) 8.
- e) 10.

23. Um decorador pretende colocar uma tela de 20cm por 30cm em uma moldura retangular, cujas distâncias “x” até as laterais devem ser as mesmas. Sabendo que a área total da região retangular que contém a moldura é de 808 cm<sup>2</sup>, a medida **X** será:

- a) um número irracional.
- b) um divisor natural de 12.
- c) 5 cm.
- d) uma dízima periódica.
- e) 3,5 cm.





24. Dentre os números 1, 2, 3, 4, 5 e 6, estão as soluções da equação  $5x^2 - 35x = -50$ . Esses dois números são:

- a) 1 e 2.
- b) 2 e 3.
- c) 2 e 5.
- d) 3 e 4.
- e) 3 e 5.

25. Em algumas cidades brasileiras, já existe a proibição do fornecimento de sacolas plásticas em supermercados e no comércio em geral. De acordo com a Associação Mineira de Supermercados, antes da lei, 450 mil unidades eram distribuídas todos os dias e, desde o início da proibição, a queda no consumo foi cerca de 97%. Segundo a Associação Mineira de Supermercados, cada comerciante gastava uma média de R\$ 2.500,00 mensais com sacolas descartáveis antes da proibição. Então, o gasto com sacolas descartáveis por 30 desses comerciantes, ao longo de um ano, após a redução indicada pela Associação, é:

- a) R\$ 75,00.
- b) R\$ 900,00.
- c) R\$ 2.425,00.
- d) R\$ 29.100,00.
- e) R\$ 27.000,00.

## LEGISLAÇÃO

26. Segundo a Lei nº. 8.112/90, a investidura do servidor em cargo de atribuições e responsabilidades compatíveis com a limitação a qual tenha sofrido em sua capacidade física ou mental, verificada em inspeção médica, configura:

- a) recondução.
- b) reintegração.
- c) reversão
- d) readaptação.
- e) redirecionamento.

27. Segundo a Constituição Federal, é correto afirmar, **EXCETO**:

- a) Os vencimentos dos cargos do Poder Legislativo e do Poder Judiciário não poderão ser superiores aos pagos pelo Poder Executivo.
- b) É vedada a vinculação ou equiparação de quaisquer espécies remuneratórias para o efeito de remuneração de pessoal do serviço público.
- c) Os acréscimos pecuniários percebidos por servidor público serão computados e acumulados para fins de concessão de acréscimos ulteriores.
- d) Havendo compatibilidade de horários, é permitida a acumulação remunerada de dois cargos públicos de professor.
- e) Havendo compatibilidade de horários, é permitida a acumulação remunerada de um cargo público de professor com outro técnico ou científico.



28. Segundo o Código de Ética Profissional do Servidor Público Civil do Poder Executivo Federal, são deveres do servidor público, **EXCETO**:

- a) desempenhar, a tempo, as atribuições do cargo, função ou emprego público de que seja titular.
- b) exercer suas atribuições com rapidez, perfeição e rendimento, pondo fim ou procurando, prioritariamente, resolver situações procrastinatórias, principalmente diante de filas ou de qualquer outra espécie de atraso na prestação dos serviços pelo setor em que exerça suas atribuições, com o fim de evitar dano moral ao usuário.
- c) ser probo, reto, leal e justo, demonstrando toda a integridade do seu caráter, escolhendo sempre, quando estiver diante de duas opções, a melhor e a mais vantajosa para o órgão em que executa suas atividades.
- d) jamais retardar qualquer prestação de contas, condição essencial da gestão dos bens, direitos e serviços da coletividade a seu cargo.
- e) tratar, cuidadosamente, os usuários dos serviços, aperfeiçoando o processo de comunicação e contato com o público.

29. Segundo a Lei nº. 9.784/99, são direitos dos administrados perante a Administração, **EXCETO**:

- a) ser tratado com respeito pelas autoridades e servidores, que deverão facilitar o exercício de seus direitos e o cumprimento de suas obrigações.
- b) ter seus pleitos decididos pela Administração Pública em até quinze dias úteis.
- c) ter ciência da tramitação dos processos administrativos em que tenha a condição de interessado, ter vista dos autos, obter cópias de documentos neles contidos e conhecer as decisões proferidas.
- d) formular alegações e apresentar documentos antes da decisão, os quais serão objeto de consideração pelo órgão competente.
- e) fazer-se assistir, facultativamente, por advogado, salvo quando obrigatória a representação, por força de lei.

30. O funcionário público que patrocina, direta ou indiretamente, interesse privado perante a administração pública, valendo-se da qualidade de funcionário, comete o crime de:

- a) condescendência criminosa.
- b) patrocínio infiel.
- c) corrupção passiva.
- d) prevaricação.
- e) advocacia administrativa.



## CONHECIMENTOS ESPECÍFICOS

31. De acordo com a NBR 6033, de 1989, o elemento levado em consideração para determinar a ordenação, tal como um nome, um cabeçalho, um título, pode ser simples, composta e complexa, é:

- a) acesso
- b) dado
- c) objeto
- d) entrada
- e) padrão

32. Segundo a NBR 6033, de 1989, a ordem usada para alfabetação baseia-se no alfabeto da língua portuguesa, de 23 letras, acrescidos de K, W e Y. Analise as proposições a seguir:

- I) Os prefixos são alfabetados como palavra isolada, quando ligados ao nome que o antecedem, e, sem espaçamento, formam uma só palavra.
- II) Os artigos que constituem a palavra inicial do item são levados em consideração, a não ser que façam parte integrante do nome.
- III) Os símbolos e sinais não alfabéticos são ignorados na ordenação, considerando-se a letra ou o número seguinte.
- IV) Os números expressos em dígitos ou outra notação (romanos) precedem as letras e não são ordenados segundo seu valor numérico. Assim, qualquer entrada que comece por número aparece como estão escritos.

Marque a alternativa **CORRETA**.

- a) Apenas as proposições I e III são corretas.
- b) Apenas as proposições I, III e IV são corretas.
- c) Apenas as proposições III e IV são corretas.
- d) Apenas as proposições I, II e IV são corretas.
- e) Apenas as proposições II e IV são corretas.

33. A NBR 6033, de 1989, fixa os critérios de aplicação da ordem alfabética em listas, índices, catálogos, bibliografias e trabalhos de natureza semelhantes. Assinale com **V** as afirmativas verdadeiras e com **F** as falsas.

- ( ) ASA, asa.
- ( ) maçã, maca.
- ( ) 100 anni, 100% American.
- ( ) caco, caço.
- ( ) Cavo, CAVO.
- ( ) Del Ré, Della Pietra.
- ( ) 8., 8th.

Assinale a alternativa que apresenta a sequência **CORRETA**.

- a) (F), (V), (V), (V), (F), (V), (F)
- b) (F), (V), (V), (F), (V), (V), (V)
- c) (V), (F), (F), (V), (F), (V), (V)
- d) (F), (F), (V), (F), (V), (V), (F)
- e) (V), (V), (F), (V), (F), (V), (F)



34. Segundo Cruz (2004), um dos principais serviços executados pelo técnico de biblioteca, tem na arrumação relativa (documentos agrupados conforme um sistema de classificação, segundo um número de chamada), a base de sua organização, este serviço é:
- a) examinar e conferir a integridade dos materiais bibliográficos.
  - b) colocar a identificação da instituição no material adquirido.
  - c) extrair os produtos previstos nos sistemas de informações bibliográficas.
  - d) digitar a entrada de dados em sistemas de informações bibliográficas.
  - e) ordenação dos livros nas estantes.
35. De acordo com Cunha (2010), uma das principais funções de uma enciclopédia é:
- a) dar respostas factuais ou imediatas (quem, como, qual, quando, onde?).
  - b) verificar se demonstram pontos de vista tendenciosos, nacionais, políticos ou religiosos.
  - c) analisar os aspectos do papel utilizado relativos à opacidade e rigidez.
  - d) ser definida como um conjunto de métodos e processos quantitativos.
  - e) verificar se a fonte é editada em períodos regulares e se sofreu interrupções ao longo de sua existência.
36. Segundo Fonseca (2007), em sua condição material, o livro compõe-se de 2 (dois) elementos:
- a) capa e escrita.
  - b) folha e miolo.
  - c) capa e texto.
  - d) folha e escrita.
  - e) capa e miolo.
37. Conforme Fonseca (2007), as primeiras bibliotecas brasileiras foram organizadas pelos jesuítas em seus colégios. Elas surgiram:
- a) em Pernambuco.
  - b) no Rio de Janeiro.
  - c) na Bahia.
  - d) em São Paulo.
  - e) em Sergipe.
38. Segundo Hazen e Beck (2001), o tipo de atividade que se concentra nos ambientes da biblioteca e nas maneiras de torná-los mais apropriados a seus conteúdos, que incorpora esforços para estender a vida física dos documentos e que envolve a transferência de conteúdo intelectual ou informativo de um formato ou matriz para outro é:
- a) catalogação.
  - b) classificação.
  - c) normalização.
  - d) documentação.
  - e) preservação.
39. Conforme Luccas e Seripierri (c1985), são fatores extrínsecos de degradação do papel, **EXCETO**:
- a) radiação ultravioleta.
  - b) temperatura.
  - c) poluentes atmosféricos.
  - d) tipos de encolagem.
  - e) umidade.



40. Segundo Luccas e Seripierri (c1985), o papel é composto por alguns elementos químicos que reagem sensivelmente aos fatores físicos, biológicos e à ação do homem.

Relacione **CORRETAMENTE** os elementos de abordagem, com seus respectivos fatores.

1. Agentes físicos	<input type="checkbox"/>	fungos
	<input type="checkbox"/>	folhear livros com as mãos sujas
	<input type="checkbox"/>	luz solar
	<input type="checkbox"/>	insetos
	<input type="checkbox"/>	virar as páginas do livro com os dedos umedecidos de saliva
2. Agentes biológicos	<input type="checkbox"/>	brocas
	<input type="checkbox"/>	poluição atmosférica
	<input type="checkbox"/>	baratas
3. Ação do homem	<input type="checkbox"/>	fazer anotações nos livros utilizando canetas
	<input type="checkbox"/>	traças
	<input type="checkbox"/>	umidade
	<input type="checkbox"/>	colocar <i>clips</i> como marcador de páginas, pois o processo de oxidação do <i>clips</i> passará para a folha do livro
	<input type="checkbox"/>	a temperatura ideal sem trânsito contínuo de pessoas é de 12°C

Assinale a alternativa que apresenta a sequência **CORRETA** de números.

- a) 3, 1, 3, 1, 3, 1, 3, 3, 2, 2, 1, 3, 1
- b) 3, 3, 2, 3, 3, 2, 1, 3, 3, 2, 1, 3, 3
- c) 1, 2, 2, 1, 3, 1, 3, 3, 2, 1, 2, 3, 1
- d) 1, 2, 3, 3, 3, 2, 3, 3, 2, 1, 2, 3, 1
- e) 2, 3, 1, 2, 3, 2, 1, 2, 3, 2, 1, 3, 1

41. A história da biblioteca, dos fins do século XVI até aos nossos dias, é um processo gradativo, ininterrupto e simultâneo de transformação, marcado, essencialmente, por quatro características principais:

- a) difusão, democratização, especialização e preservação.
- b) laicização, difusão, especialização e preservação.
- c) laicização, democratização, especialização e socialização.
- d) difusão, democratização, promoção e socialização.
- e) laicização, democratização, promoção e preservação.





42. Leia o seguinte trecho: Materiais e instrumentos primitivos empregados na escrita. O homem já empregou, e continua empregando, na escrita materiais dos três reinos da natureza. O reino mineral já lhe forneceu a pedra, a argila, o mármore, o bronze, o ouro, a prata, chumbo. Do reino vegetal, a madeira, folhas de palmeiras ou de oliveiras, panos, papiro. O grande material do reino animal empregado na escrita foi o pergaminho. Analise as proposições, a seguir.

- I ) Na pedra, segundo o Velho Testamento, foi gravada a primeira lei dos hebreus, revelada no Monte Sinai.
- II ) Era na madeira que os romanos escreviam os seus tratados de paz e, acima de tudo, a sua famosa Lei das Doze Tábuas.
- III ) Na Pérsia e na China, a seda foi um material muito empregado na escrita: é mesmo daí que sairá a invenção do papel.
- IV ) Mas, sem a menor dúvida, o mais célebre de todos os produtos vegetais empregados na escrita é o papiro, de tanta importância histórica em si mesmo e pelos textos que conteve.

Marque a alternativa **CORRETA**.

- a) Apenas as proposições I, II e IV são corretas.
- b) Apenas as proposições I, III e IV são corretas.
- c) Apenas as proposições III e IV são corretas.
- d) Apenas as proposições I e III são corretas.
- e) Apenas as proposições II e IV são corretas.

43. Segundo Milanesi (2013), quando o primeiro organizador, talvez de papiros, explicou a um auxiliar como fazia para manter o controle sobre milhares de rolos, ou contou a uma visita a sua engenharia para dominar aquele mundo de sinais desenhados à mão sem correr o risco de ser afogado por eles, estava estabelecendo:

- a) serviços.
- b) ensinamentos.
- c) regras.
- d) ordenação.
- e) classificação.

44. Segundo Paranaguá e Branco (2009), somente em 1886 é que surgiram as primeiras diretrizes para a regulação ampla dos direitos autorais. Foi nesse ano que representantes de diversos países se reuniram para definir padrões mínimos de proteção dos direitos a serem concedidos aos autores de obras literárias, artísticas e científicas. Assim, celebrou-se a Convenção, que desde então serviu de base para a elaboração das diversas legislações nacionais sobre a matéria. Em qual cidade, aconteceu esta Convenção:

- a) Paris
- b) Berlim
- c) Roma
- d) Berna
- e) Madri



45. Segundo Paranaguá e Branco (2009), a doutrina indica que um dos requisitos para que uma obra seja protegida pela Lei de Direitos Autorais, é a mesma encontrar-se dentro do período de proteção fixado pela lei, que atualmente é toda a vida do autor, mais alguns anos contados a partir de sua morte. Precisamente, quantos anos após a morte do autor, a obra ainda é resguardada pela Lei de Direitos Autorais no Brasil?
- a) 40  
b) 50  
c) 100  
d) 70  
e) 75
46. A ordenação de itens na prateleira, segundo Pinheiro e Weitzel (2007), em termos de volume de uso, suplantou os demais sistemas de ordenação, a partir de meados de século XX. Essa ordenação é denominada:
- a) sistemática.  
b) alfabética.  
c) de entrada.  
d) por tamanho.  
e) por cores.
47. Formato é a configuração física de um suporte, de acordo com a sua natureza e o modo como foi confeccionado, segundo Camargo e Bellotto (1996, p. 39) citados por Pinheiro e Weitzel (2007, p. 45). O formato pode ser tipográfico, bibliográfico e internacional. Antes da fabricação do papel contínuo, o papel para impressão tinha o tamanho da fôrma em que era fabricado – daí a nomenclatura formato tipográfico. A identificação do formato se concretizava pela forma com que se dobrava a folha impressa. Faça a **CORRETA** correspondência da coluna II à coluna I.

COLUNA I	COLUNA II
1 – in plano	( ) papel vincado no meio, com uma dobra vertical e quatro páginas, medindo de 33 a 66 cm.
2 – in-folio	( ) papel planificado, sem dobras, com duas páginas.
3 – in-quarto	( ) papel vincado ao meio, com uma dobra vertical, seguida de uma horizontal e outra vertical, de modo a ficar com um oitavo do tamanho original e dezesseis páginas, com 16 a 22 cm; e assim por diante, com variações de formatos extraordinários.
4 – in-oitavo	( ) papel vincado ao meio, com uma dobra horizontal seguida de outra vertical, de modo a ficar com um quarto do tamanho original e oito páginas, medindo 23 e 32 cm.

Assinale a alternativa que apresenta a sequência **CORRETA**.

- a) 3 – 4 – 1 – 2  
b) 2 – 1 – 4 – 3  
c) 3 – 4 – 2 – 1  
d) 2 – 1 – 3 – 4  
e) 1 – 2 – 4 – 3



48. As “cinco leis da biblioteconomia” do conhecido bibliotecário indiano S. R. Ranganathan, por definirem, com grande simplicidade, o problema da biblioteca e do bibliotecário, se forem obedecidas, o objetivo da biblioteca terá sido atingido. Compõem as “cinco leis da biblioteconomia” de Ranganathan, **EXCETO**:
- a) para cada livro, o seu leitor.
  - b) não poupe o tempo do leitor.
  - c) os livros são para serem usados.
  - d) a biblioteca é um organismo em constante desenvolvimento.
  - e) a cada leitor, seu livro.
49. Segundo Prado (1992), cabe à biblioteca promover o uso do acervo, e para isso deve possuir livros que possam contribuir para a cultura geral do leitor. Entre esses, deve incluir materiais que não são propriamente para serem lidos, mas consultados, formando a coleção de referência. São itens da coleção de referência, **EXCETO**:
- a) dicionário.
  - b) enciclopédia.
  - c) almanaque.
  - d) livro didático.
  - e) atlas.
50. Segundo Prado (1992), levantamento, entrevistas, questionário, comparação de estatísticas, amostragem, métodos estatísticos e análise de sistemas são métodos de:
- a) avaliação.
  - b) administração.
  - c) organização.
  - d) gestão.
  - e) preservação.
51. Segundo Duranti (1994), são características dos registros documentais, **EXCETO**:
- a) imparcialidade.
  - b) autenticidade.
  - c) naturalidade.
  - d) multicidade.
  - e) inter-relacionamento.
52. Segundo Silva e Araújo (1997), a biblioteca tem as seguintes finalidades e funções:
- a) reunir, organizar e administrar.
  - b) coletar, organizar e administrar.
  - c) reunir, recuperar e difundir.
  - d) coletar, organizar e difundir.
  - e) reunir, organizar e difundir.



53. Segundo Silva e Araújo (2009), o livro foi a primeira máquina de ensinar, e também o primeiro bem produzido em massa. Sobre a sua evolução, relacione **CORRETAMENTE** a coluna II à coluna I.

COLUNA I	COLUNA II
(1) Oriente Antigo	( ) Folhas costuradas
(2) Egípcios, gregos e romanos	( ) Livro
(3) Idade Média	( ) Placas de argila
(4) Idade Moderna	( ) Rolos de papiro ou pergaminho

Assinale a alternativa que apresenta a sequência **CORRETA**.

- a) 3 – 4 – 1 – 2
- b) 1 – 2 – 4 – 3
- c) 3 – 4 – 2 – 1
- d) 2 – 1 – 3 – 4
- e) 4 – 3 – 2 – 1

54. Segundo Silva e Araújo (2009), o livro apresenta 3 (três) características importantes:

- a) suporte da informação, reunião e preservação de dados e usabilidade.
- b) suporte da escrita, difusão e conservação de um texto e manejabilidade.
- c) suporte da escrita, reunião e organização de dados e usabilidade.
- d) suporte do texto, reunião e organização de dados e manejabilidade.
- e) suporte da informação, reunião e organização de um texto e usabilidade.

55. Para Silva e Araújo (2009, p. 22), “é o suporte da informação, isto é, todo material escrito, cartográfico, ou sonoro em que já foi fixada ou gravada uma ideia ou mensagem.”. Essa afirmativa das autoras refere-se:

- a) à biblioteca.
- b) ao arquivo.
- c) ao documento.
- d) ao museu.
- e) ao centro de documentação e informação.

56. De acordo com Silva e Araújo (2009), “identifica o livro em uma determinada edição; facilita o controle de estoques; facilita o controle de vendas; padroniza os pedidos de livros às editoras; facilita a interligação de arquivos; a recuperação e a transmissão de dados em sistemas automatizados; elimina barreiras linguísticas na comercialização; facilita o intercâmbio bibliográfico nacional e internacional”. As afirmações acima, identificam as vantagens do:

- a) serviço de permuta e intercâmbio de publicações.
- b) serviço de busca.
- c) serviço de aquisição.
- d) sistema de classificação.
- e) ISBN.



- 57.** Segundo Silva e Araújo (2009), o auxiliar de biblioteca executa tarefas numa biblioteca ou centro de documentação e informação sob a supervisão de um bibliotecário. A missão do auxiliar de biblioteca é:
- a) reconhecer a importância do seu trabalho para o desenvolvimento da instituição.
  - b) planejar e divulgar os serviços oferecidos pela biblioteca.
  - c) integrar tecnologia de informação ao programa da instituição.
  - d) dar apoio e executar as mais variadas tarefas.
  - e) dar apoio aos métodos de ensino na instituição.
- 58.** Segundo Silva (1994), a decimalidade, a universalidade, o caráter hierárquico e o caráter analítico-sintético são características fundamentais:
- a) da ABNT.
  - b) da CDD.
  - c) da CDU.
  - d) da PHA.
  - e) do Cutter.
- 59.** Para Simão, Schercher e Neves (1993, p. 40), abre um permanente canal de comunicação entre o usuário e os recursos e serviços que a biblioteca oferece. Permite ainda, ao usuário a familiarização com a forma de ordenação, os serviços e os setores da biblioteca. Esse canal de comunicação é:
- a) a sinalização.
  - b) a ordenação das estantes.
  - c) o arranjo dos livros.
  - d) a recuperação da informação.
  - e) a interação biblioteca-usuário.
- 60.** Segundo Spinelli Jr. (1995), a filosofia de conservação de livros e documentos, que abrange o método de conservação composto pelos tratamentos de fumigação, higienização, reestruturação e acondicionamento das obras do acervo da Biblioteca Nacional, traz em si três conceitos:
- a) o técnico, o controle e o histórico.
  - b) a integridade, o material e o controle.
  - c) o técnico, o material e o controle.
  - d) a integridade, o material e o respeito.
  - e) o técnico, o material e o estético.



**GABARITO PROVA - AUXILIAR DE BIBLIOTECA**

1.	<b>B</b>
2.	<b>B</b>
3.	<b>D</b>
4.	<b>D</b>
5.	<b>E</b>
6.	<b>D</b>
7.	<b>A</b>
8.	<b>C</b>
9.	<b>E</b>
10.	<b>C</b>
11.	<b>D</b>
12.	<b>C</b>
13.	<b>A</b>
14.	<b>A</b>
15.	<b>B</b>
16.	<b>C</b>
17.	<b>E</b>
18.	<b>C</b>
19.	<b>A</b>
20.	<b>D</b>
21.	<b>C</b>
22.	<b>B</b>
23.	<b>A</b>
24.	<b>C</b>
25.	<b>E</b>
26.	<b>D</b>
27.	<b>C</b>
28.	<b>C</b>
29.	<b>B</b>
30.	<b>E</b>

31.	<b>D</b>
32.	<b>A</b>
33.	<b>C</b>
34.	<b>E</b>
35.	<b>A</b>
36.	<b>E</b>
37.	<b>C</b>
38.	<b>E</b>
39.	<b>D</b>
40.	<b>E</b>
41.	<b>C</b>
42.	<b>B</b>
43.	<b>C</b>
44.	<b>D</b>
45.	<b>D</b>
46.	<b>A</b>
47.	<b>B</b>
48.	<b>B</b>
49.	<b>D</b>
50.	<b>A</b>
51.	<b>D</b>
52.	<b>E</b>
53.	<b>A</b>
54.	<b>B</b>
55.	<b>C</b>
56.	<b>E</b>
57.	<b>D</b>
58.	<b>C</b>
59.	<b>A</b>
60.	<b>E</b>